

Bevolking en ruimte

bron 28

Bevolkingscijfers van de gemeente Den Haag in 2013

Aantal inwoners	508.940
Geboortecijfer	... ? ...
Sterftcijfer	7,9
Geboorteoverschot	5,1
Vestigingscijfer	63,8
Vertrekcijfer	52,9
Migratiesaldo	10,9

- 1p 30 Zie bron 28.
De gemeente Den Haag had in 2013 een geboorteoverschot van 5,1 per 1000 inwoners.
Hoe groot was het geboortecijfer per 1000 inwoners?
- A 2,8
 - B 5,8
 - C 10,9
 - D 13,0

bron 29

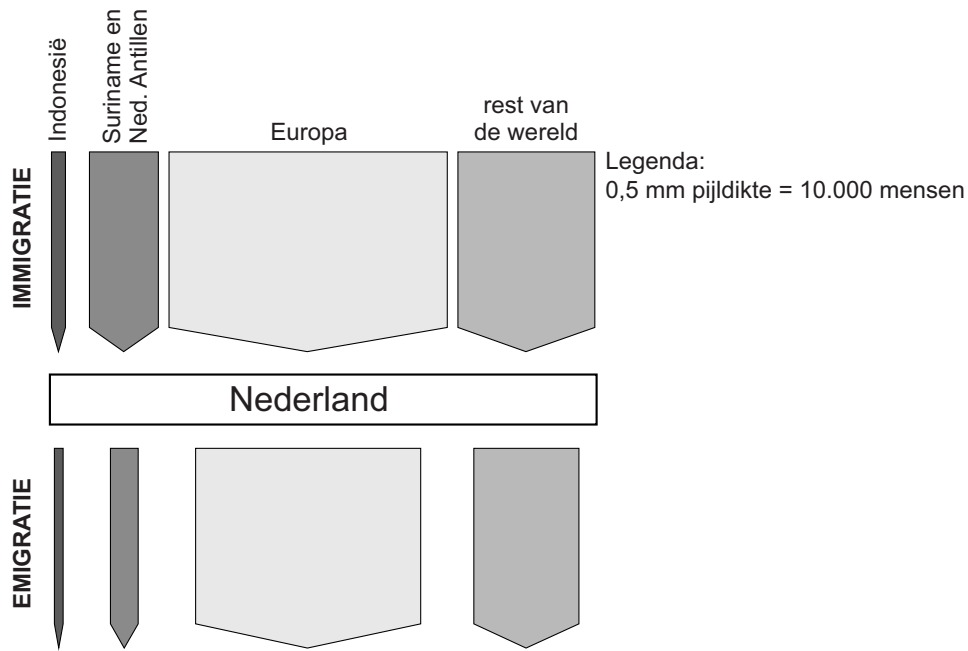
De bevolkingsdichtheid in Nederland, 2012

	Bevolkingsdichtheid
Nederland	497
per provincie	
Groningen	249
Friesland	194
Drenthe	185
Overijssel	343
Flevoland	281
Gelderland	406
Utrecht	899
Noord-Holland	1020
Zuid-Holland	1266
Zeeland	213
Noord-Brabant	503
Limburg	522

- 1p 31 Zie bron 29.
In 2012 was de bevolkingsdichtheid in Nederland 497.
Wat wordt daarmee bedoeld?
- A de manier waarop de bevolking verspreid is over Nederland
 - B het aantal mensen dat gemiddeld op een km² woont
 - C het aantal mensen dat in Nederland woont x 1000
 - D dat in het ene gebied in Nederland meer mensen wonen dan in het andere gebied
- 1p 32 Leerlingen doen twee uitspraken naar aanleiding van bron 29.
Uitspraak 1: de provincies waarin de Randstad ligt, zijn het dichtstbevolkt.
Uitspraak 2: de provincies die aan België grenzen, zijn het dunstbevolkt.
Wat is juist?
- A Alleen uitspraak 1 is juist.
 - B Alleen uitspraak 2 is juist.
 - C Beide uitspraken zijn juist.
 - D Beide uitspraken zijn onjuist.

bron 30

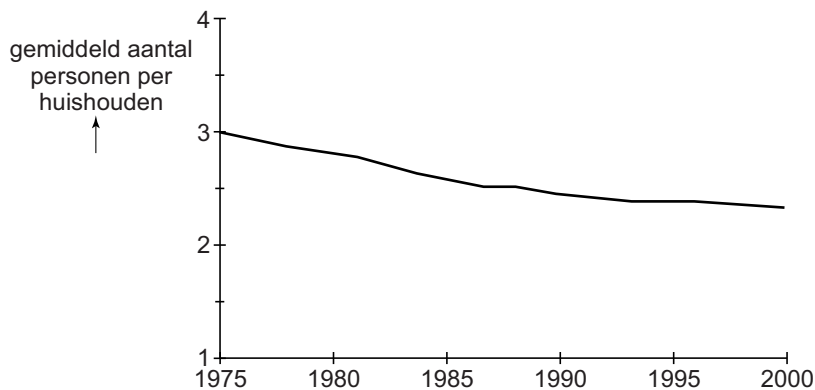
Buitenlandse migratie, 1965-1974



- 1p 33 Naar aanleiding van de grafiek in bron 30 worden drie uitspraken gedaan. Welke uitspraak is juist?
- A Er vertrokken in de periode 1965-1974 meer mensen vanuit Nederland naar Suriname en de Nederlandse Antillen dan andersom.
 - B In de periode 1965-1974 gingen meer dan 800.000 Nederlanders in de rest van Europa wonen.
 - C In de periode 1965-1974 was in Nederland de immigratie groter dan de emigratie.

bron 31


Huishoudensgrootte, 1975-2000



- 1p **34** In de grafiek in bron 31 zie je dat het gemiddelde aantal personen per huishouden in Nederland tussen 1975 en 2000 veranderd is. Welke bewering is juist?
- A Door gezinshereniging neemt het aantal personen per huishouden af.
 - B Door een toename van het aantal echtscheidingen neemt het aantal personen per huishouden af.
 - C Doordat jongeren steeds later zelfstandig gaan wonen, neemt het aantal personen per huishouden af.
 - D Doordat ouderen steeds langer zelfstandig blijven wonen, neemt het aantal personen per huishouden toe.
- 2p **35** Er worden drie uitspraken gedaan over landelijke en stedelijke gebieden in Nederland.
→ Geef bij elke uitspraak aan of deze juist of onjuist is.

	juist	onjuist
In landelijke gebieden ver van de stad wonen meer mensen van buitenlandse afkomst dan in gebieden dicht bij de stad.		
In landelijke gebieden is het voorzieningenniveau hoger dan in stedelijke gebieden.		
Een oorzaak van het ontstaan van grote winkelcentra aan de rand van de stad is de afgenomen bereikbaarheid van de stadscentra met de auto.		

bron 32
Geboortecijfer



- 1p 36 Drie leerlingen doen een uitspraak naar aanleiding van bron 32.
Welke uitspraak is juist?
- A Flevoland heeft een hoog geboortecijfer door de remigratie van buitenlanders.
 - B Flevoland heeft een hoog geboortecijfer door een jonge bevolkingsopbouw.
 - C Flevoland heeft een hoog geboortecijfer omdat Flevoland dunbevolkt is.

bron 33

Affiche eenkindpolitiek



- 1p 37 In 1979 stelde de Chinese regering de eenkindpolitiek in (zie bron 33).
→ Wat was de belangrijkste reden voor de Chinese regering om de eenkindpolitiek in te stellen?

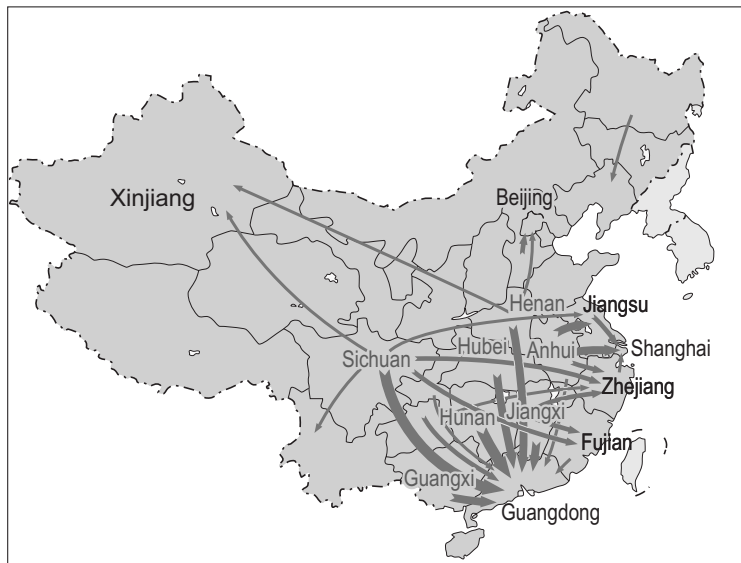
.....
.....

- 1p 38 Tot 2008 werden in Nederland meer meisjes dan jongens uit China geadopteerd.
→ Noem hiervan een oorzaak die te maken heeft met de eenkindpolitiek.

.....
.....

bron 34

China, binnenlandse migratie



Legenda:

belangrijkste migratiestroom

→ 0,25 - 0,5 mln

→ 0,5 - 1 mln

→ 1 - 2,5 mln

→ 2,5 mln of meer

0 650 1300 km

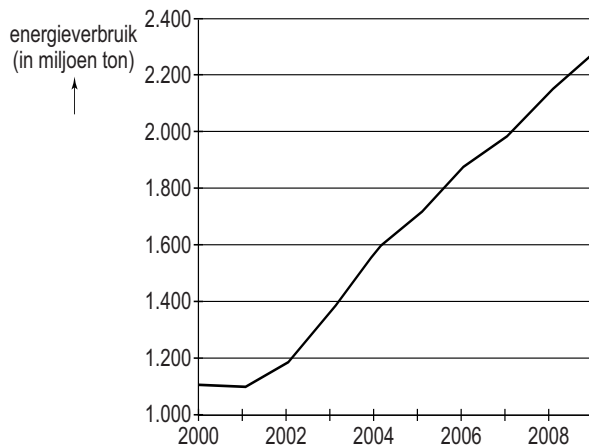
- 2p 39 Op de kaart in bron 34 is de omvang van de binnenlandse migratie in China te zien. Mensen hebben verschillende redenen om te migreren. Ze maken een afweging tussen aantrekkingsfactoren en afstotingsfactoren.
- Geef van de volgende vier kenmerken aan of ze een aantrekkingsfactor van de stad zijn of een afstotingsfactor van het platteland.

kenmerk	aantrekkingsfactor van de stad	afstotingsfactor van het platteland
laag voorzieningenniveau		
uitgebreide infrastructuur		
veel opleidingsmogelijkheden		
werk voor hoger opgeleiden		

- 1p 40 Bekijk bron 34.
- Naar welk deel van China trokken de meeste binnenlandse migranten en waarom?
- A naar het noordoosten om er te werken in de industrie
- B naar het noordoosten om er te werken in het toerisme
- C naar het zuidoosten om er te werken in de landbouw
- D naar het zuidoosten om er te werken in de industrie

bron 35

China, energieverbruik in miljoen ton



- 1p 41 De grafiek in bron 35 gaat over het energieverbruik van China tussen 2000 en 2009. Een oorzaak van de groei van het energieverbruik is de bevolkingsgroei.
→ Geef nog een oorzaak.

.....

.....

- 1p 42 Er worden twee uitspraken gedaan over de verstedelijking in China.
Uitspraak 1: doordat veel Chinezen naar de stad trekken, neemt de vergrijzing in de stad toe.
Uitspraak 2: mechanisatie in de landbouw is een afstotingsfactor van het Chinese platteland.
Wat is juist?
A Alleen uitspraak 1 is juist.
B Alleen uitspraak 2 is juist.
C Beide uitspraken zijn juist.
D Beide uitspraken zijn onjuist.

Let op: de laatste vraag van dit examen staat op de volgende pagina.

bron 36

Een miljoenenstad in China



- 2p 43 Er worden drie uitspraken gedaan naar aanleiding van de foto in bron 36.
→ Geef bij elke uitspraak aan of deze juist of onjuist is.

	juist	onjuist
De luchtvervuiling in Chinese steden tast de leefbaarheid aan.		
Het woon-werkverkeer is een oorzaak van de files in de Chinese steden.		
Op de foto is sprake van verkeerscongestie.		

Bronvermelding

Een opsomming van de in dit examen gebruikte bronnen, zoals teksten en afbeeldingen, is te vinden in het bij dit examen behorende correctievoorschrift, dat na afloop van het examen wordt gepubliceerd.