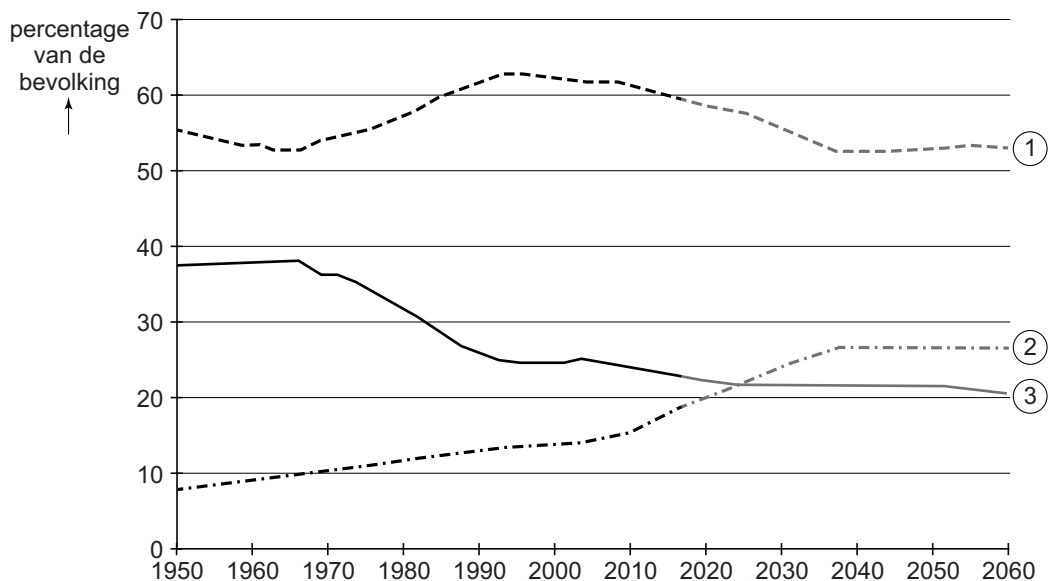


bron 25

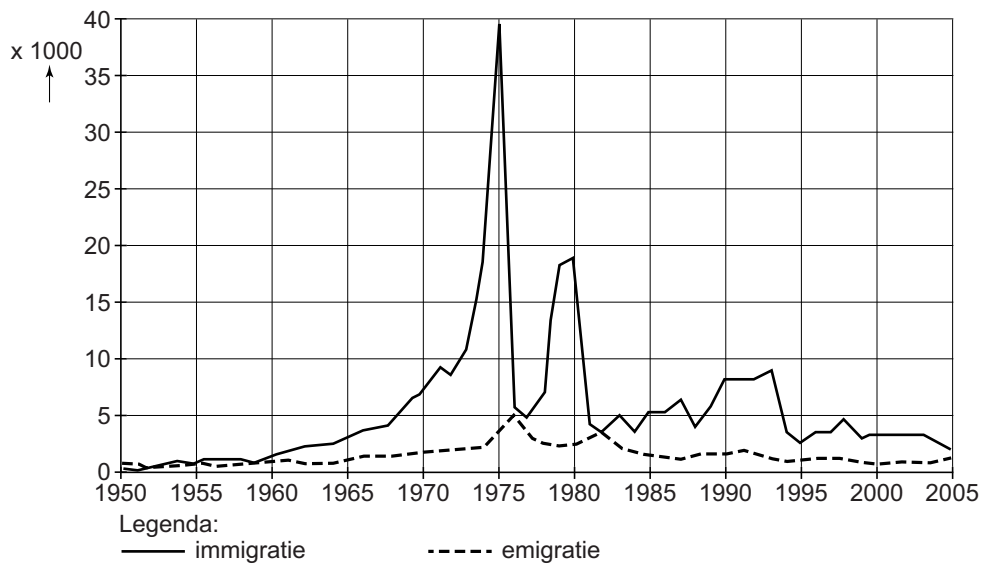
Leeftijdsopbouw van de bevolking, 1950 - 2060



- 1p 29 Bekijk bron 25.
In bron 25 zijn drie lijnen te zien die een bepaalde leeftijdsgroep weergeven. Het gaat om de leeftijdsgroepen 0 tot en met 19 jaar, 20 tot en met 64 jaar en 65 jaar en ouder.
Welke lijn geeft de leeftijdsgroep 65 jaar en ouder weer?
A lijn 1
B lijn 2
C lijn 3
- 1p 30 In 2016 bestond de totale bevolking in Nederland uit 17.000.000 mensen.
In 2016 was het geboortecijfer 11 en het sterftcijfer 9.
Wat was de natuurlijke groei in 2016?
A 3.400
B 34.000
C 18.700
D 187.000

bron 26

Nederland, emigratie en immigratie, 1950 - 2005



1p 31 Bekijk bron 26.

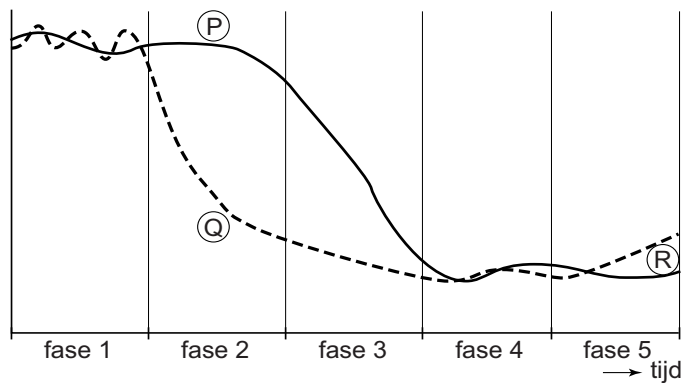
Bron 26 laat de migratie tussen een bepaald land en Nederland zien. In 1975 kwamen er veel meer migranten uit dat land naar Nederland dan in andere jaren.

Uit welk land was dat?

- A uit Indonesië
- B uit Marokko
- C uit Suriname
- D uit Turkije

bron 27

Transitiemodel bevolking



- 1p **32** Bekijk bron 27.
 In bron 27 staan de letters P, Q en R.
 Waar staan de omschrijvingen juist bij de letters P, Q en R uit bron 27?

	P	Q	R
A	geboortecijfer	sterftcijfer	geboorteoverschot
B	geboortecijfer	sterftcijfer	sterfteoverschot
C	sterftcijfer	geboortecijfer	geboorteoverschot
D	sterftcijfer	geboortecijfer	sterfteoverschot

- 1p **33** Welke voorziening heeft in Nederland gemiddeld het grootste verzorgingsgebied?
- A** een basisschool
 - B** een peuterspeelzaal
 - C** een school voor voortgezet onderwijs
 - D** een universiteit

bron 28

Drie kaarten van Alkmaar

kaart 1



kaart 2



kaart 3



Legenda:

-  woongebied
-  winkelgebied
-  werkgebied
-  bijzonder gebouw
-  park, plantsoen
-  grasland
-  water
-  spoorweg

- 1p 34 Bekijk bron 28.
Welke kaart is van de historische binnenstad?
- A kaart 1
 - B kaart 2
 - C kaart 3

- 1p 35 In de jaren 70 en 80 trokken veel mensen weg uit de grote steden. Ze gingen wonen in dorpen om die steden heen. Veel kleine dorpen groeiden toen ineens heel snel.
Waar staat het begrip bij deze migratiestroom met een juist gevolg van deze migratie?

	begrip	gevolg van de migratie
A	urbanisatie	meer forensisme
B	urbanisatie	minder forensisme
C	suburbanisatie	meer forensisme
D	suburbanisatie	minder forensisme

- 1p 36 In stadsdeel Oud-West in Nijmegen zijn verschillende oude bedrijfslocaties vrijgekomen. Op de plek van de bedrijven wil de gemeente woningen bouwen.
→ Welk gemeentelijk plan moet daarvoor gewijzigd worden?

.....
.....

bron 29

Winkelleegstand in 2020

Steeds meer binnensteden in Nederland hebben te maken met een toenemende leegstand van winkelruimten. Op dit moment staat al meer dan 1,9 miljoen m² winkeloppervlak leeg, waarvan een groot deel in de binnensteden.

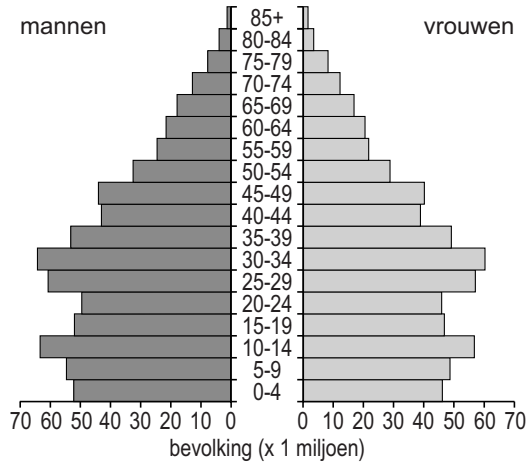
- 1p 37 Lees bron 29.
→ Noem een economische oorzaak van deze leegstand van winkelruimtes in de binnensteden.

.....
.....

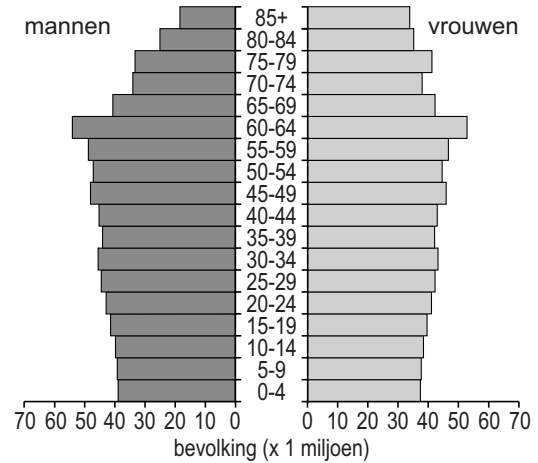
bron 30

Drie bevolkingsdiagrammen van China

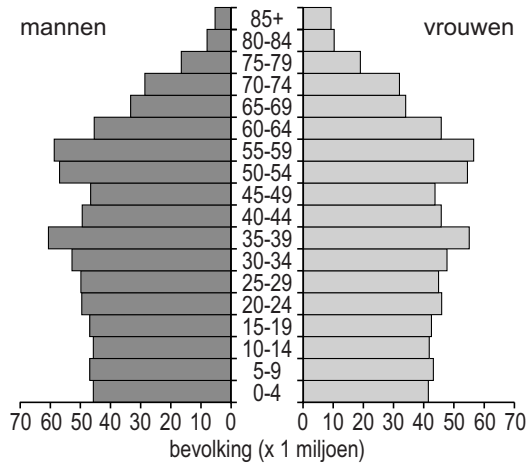
bevolkingsdiagram 1



bevolkingsdiagram 2



bevolkingsdiagram 3



1p 38 Bekijk bron 30.

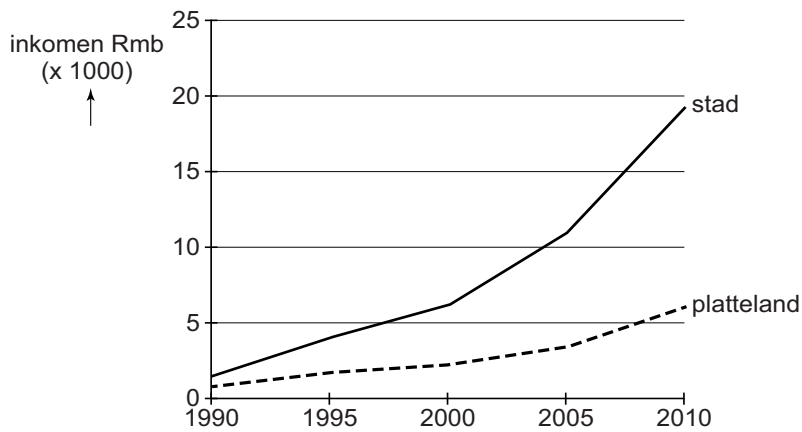
In bron 30 staan de bevolkingsdiagrammen van China van 2000, 2025 en 2050 in willekeurige volgorde.

Waar staan de cijfers van de bevolkingsdiagrammen juist bij de drie jaartallen?

	2000	2025	2050
A	1	2	3
B	1	3	2
C	2	1	3
D	3	1	2

bron 31

Ontwikkeling van het inkomen in China in stad en platteland, tussen 1990 en 2010 (inkomen in Chinese renminbi)



- 1p **39** Bekijk bron 31.
Welke uitspraak over de grafiek in bron 31 is juist?
- A** De integratie wordt groter.
 - B** De sociale ongelijkheid wordt groter.
 - C** De urbanisatie wordt groter.

bron 32

Beijing zonder en met luchtvervuiling

foto 1

foto 2



1p 40 Bekijk bron 32.

De twee foto's van een straatbeeld in Beijing sluiten precies op elkaar aan. Foto 1 is genomen op een zonnige dag. Op foto 2 hangt er veel luchtvervuiling boven de stad. In de winter is de luchtvervuiling in Beijing meestal erger dan in de zomer. In de winter leveren huishoudens een grotere bijdrage aan de luchtvervuiling in de stad dan in de zomer.
→ Geef de oorzaak van dit verschil.

.....
.....

1p 41 Sinds 1980 zijn er in China duidelijk meer jongens dan meisjes geboren. Daardoor zijn er nu meer jonge mannen dan jonge vrouwen.
→ Noem een maatschappelijk gevolg van het ongelijke aantal jonge mannen en vrouwen.

.....
.....

bron 33

E-bikes

In 2009 werden in China 22 miljoen e-bikes verkocht.
Ter vergelijking: één op de vijf verkochte fietsen is daar nu elektrisch,
tegen één op de acht in Nederland.



2p 42 Lees bron 33.

→ Geef twee voordelen van de e-bike in plaats van de auto voor de leefbaarheid van Chinese steden.

voordeel 1

.....

voordeel 2

.....

Let op: de laatste vragen van dit examen staan op de volgende pagina.

bron 34

Nieuwe arbeiderswijk in China



- 1p 43 Bekijk bron 34.
 Waar staan de kenmerken juist bij de bebouwingsdichtheid en de bevolkingsdichtheid in deze arbeiderswijk?

	bebouwingsdichtheid	bevolkingsdichtheid
A	laag	hoog
B	laag	laag
C	hoog	hoog
D	hoog	laag

bron 35

Oude woonwijk in Chinese binnenstad



- 1p 44 Bekijk bron 34 en bron 35.
 In bron 35 zie je een oude wijk in China. Veel van deze wijken worden gesloopt.
 → Geef een reden waarom veel van deze wijken worden gesloopt en vervangen zijn door wijken zoals in bron 34.

.....

Bronvermelding

Een opsomming van de in dit examen gebruikte bronnen, zoals teksten en afbeeldingen, is te vinden in het bij dit examen behorende correctievoorschrift, dat na afloop van het examen wordt gepubliceerd.