

Bevolking en ruimte

bron 32

Demografische gegevens van Nederland in 2015

totale bevolkingsomvang op 1 januari 2015	geboorte	sterfte	immigratie	emigratie
16.900.726	170.510	147.134	204.615	149.509

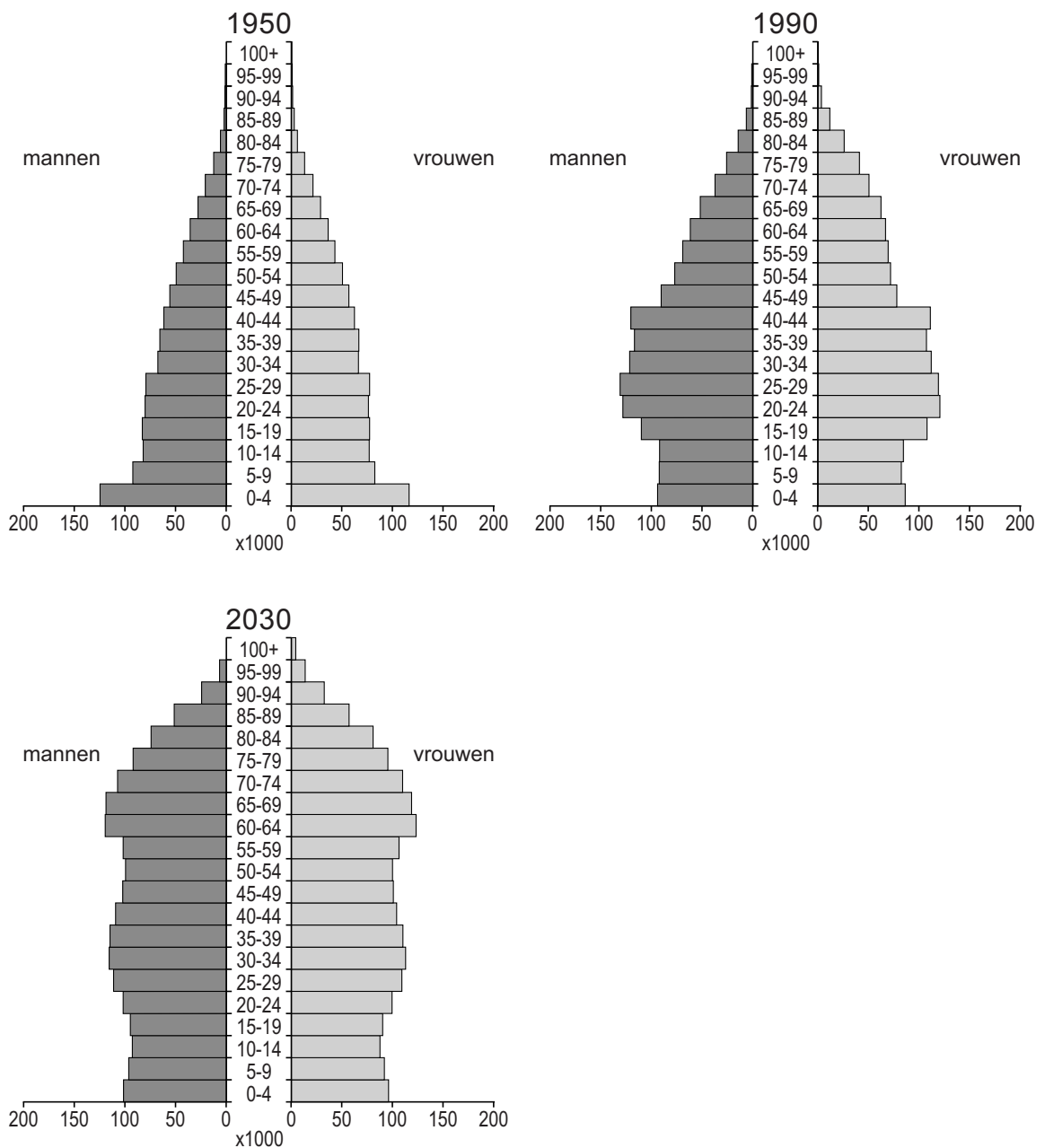
1p 32 Bekijk bron 32.

Wat is juist over de bevolkingsontwikkeling in Nederland in 2015?

- A De natuurlijke bevolkingsgroei was groter dan de sociale bevolkingsgroei. De totale bevolking nam af.
- B De natuurlijke bevolkingsgroei was groter dan de sociale bevolkingsgroei. De totale bevolking nam toe.
- C De natuurlijke bevolkingsgroei was kleiner dan de sociale bevolkingsgroei. De totale bevolking nam af.
- D De natuurlijke bevolkingsgroei was kleiner dan de sociale bevolkingsgroei. De totale bevolking nam toe.

bron 33

Drie bevolgingsgrafieken van Nederland



1p 33 Bekijk bron 33.

Over bron 33 worden twee uitspraken gedaan.

Uitspraak 1: in 2030 zullen er naar verwachting meer kinderen van nul tot en met vier jaar zijn dan in 1990.

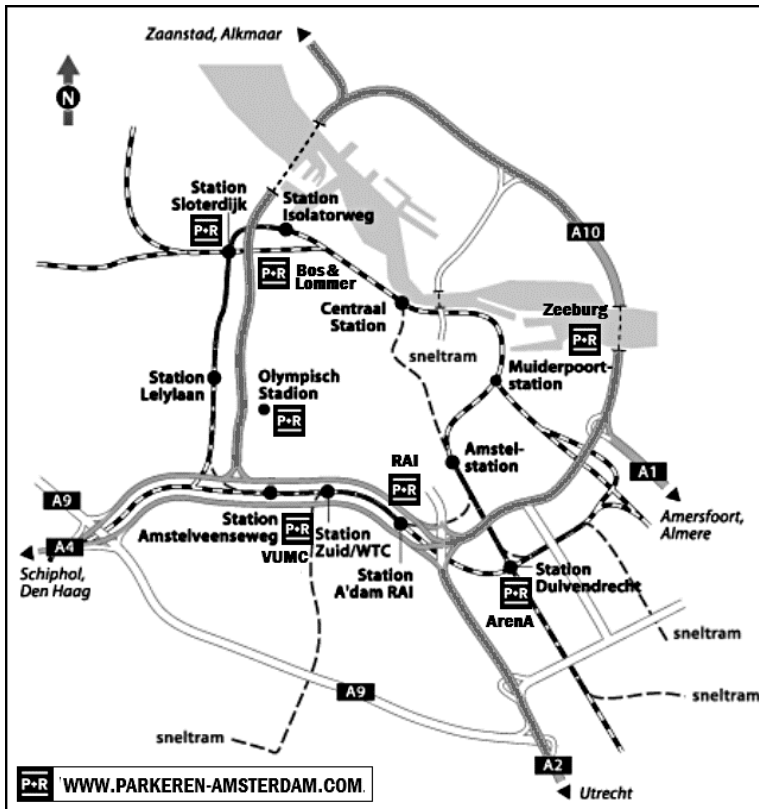
Uitspraak 2: uit de bevolgingsgrafieken is af te leiden dat de beroepsbevolking tussen 1950 en 1990 afnam.

→ Neem de cijfers 1 en 2 van de uitspraken over op het antwoordblad en zet erachter of de uitspraak juist of onjuist is.

- 1p 34 Bekijk bron 33.
 In de bevolkingsgrafiek van 1990 zie je een in verhouding grote groep mensen van twintig tot vijfentwintig jaar.
 → Geef de verklaring hiervoor die af te leiden is uit de bevolkingsgrafiek van 1990.
- 2p 35 Geef twee oorzaken van de daling van het geboortecijfer in Nederland vanaf 1965.

bron 34

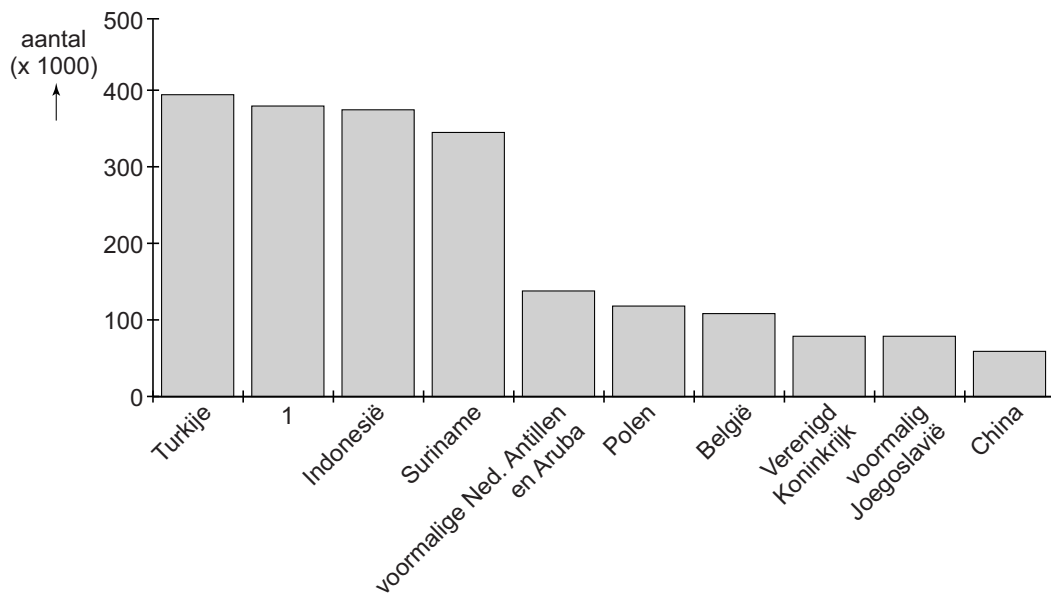
Park and Ride (P&R) in Amsterdam



- 2p 36 Bekijk bron 34.
 Een Park and Ride (Nederlands: Parkeer- en Reisvoorziening) is een parkeervoorziening bij een halte of station die bedoeld is voor automobilisten die vervolgens met het openbaar vervoer verder reizen. Dit leidt tot minder auto's in het centrum van een stad.
 Door de aanleg van P&R-plaatsen is de leefbaarheid in het centrum van Amsterdam verbeterd.
 → Geef hiervoor twee argumenten.

bron 35

Herkomstlanden van mensen met een migratieachtergrond die in 2014 in Nederland woonden



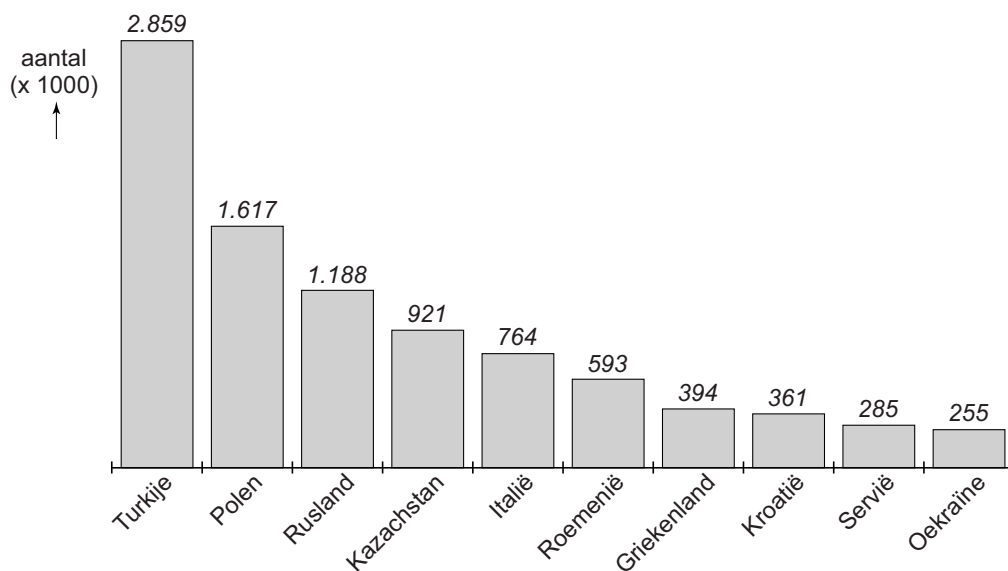
1p 37 Bekijk bron 35.

In de grafiek van Nederland is de naam van één herkomstland vervangen door het cijfer 1.

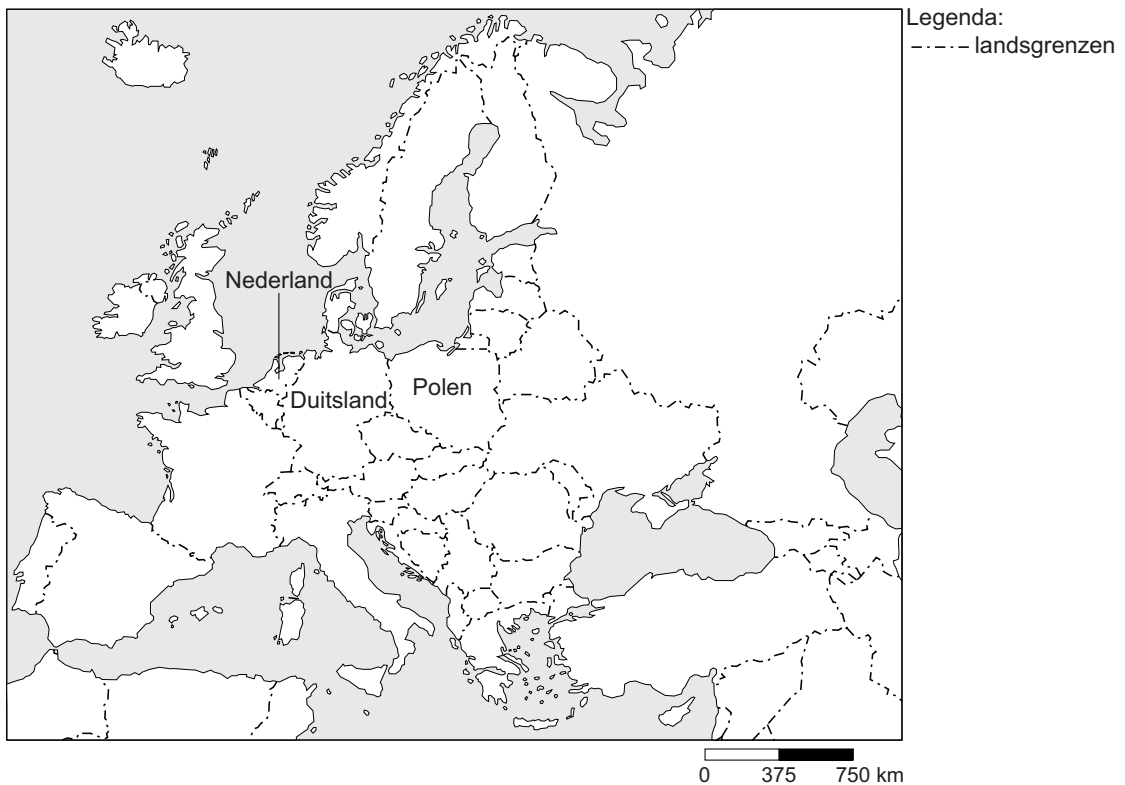
→ Uit welk land is deze groep immigranten afkomstig?

bron 36

Herkomstlanden van mensen met een migratieachtergrond die in 2014 in Duitsland woonden.



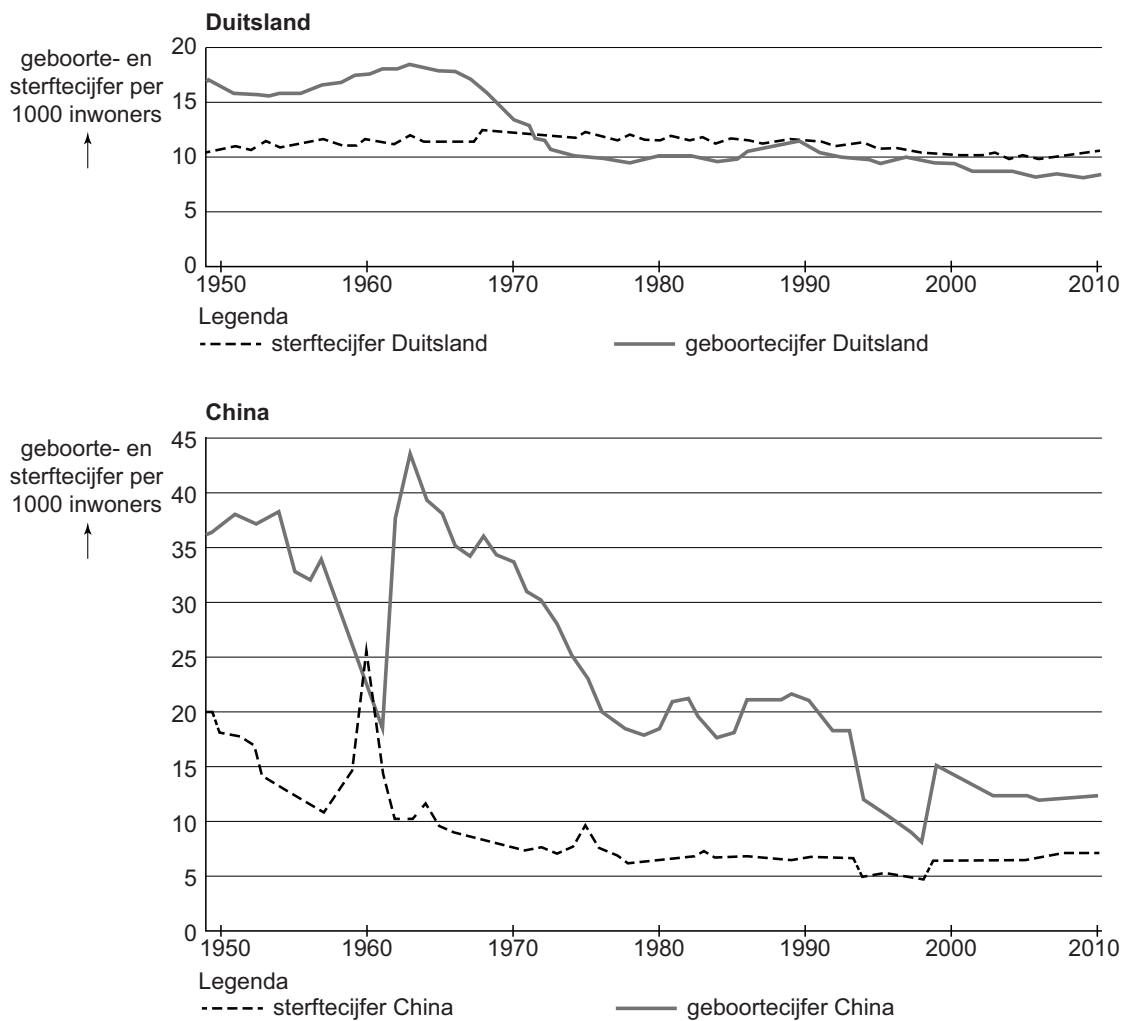
bron 37
Europa



- 1p **38** Bekijk bron 35, bron 36 en bron 37.
In Duitsland hebben zich in verhouding meer Polen gevestigd dan in Nederland. Zij zijn geëmigreerd vanwege werk.
→ Geef vanuit bron 37 nog een reden waarom de groep Poolse immigranten in Duitsland in verhouding groter is dan in Nederland.
- 1p **39** De Duitse overheid ziet de komst van immigranten als een van de oplossingen om het probleem van vergrijzing in Duitsland aan te pakken.
→ Noem een kenmerk van de immigranten waardoor hun komst de vergrijzing tegengaat.

bron 38

Bevolkingsontwikkeling van Duitsland* en China, 1950-2010



* Voor de periode 1961 tot 1989 zijn de gegevens van Oost-Duitsland en West-Duitsland bij elkaar opgeteld en weergegeven als Duitsland.

1p 40 Bekijk bron 38.

Over bron 38 worden twee uitspraken gedaan.

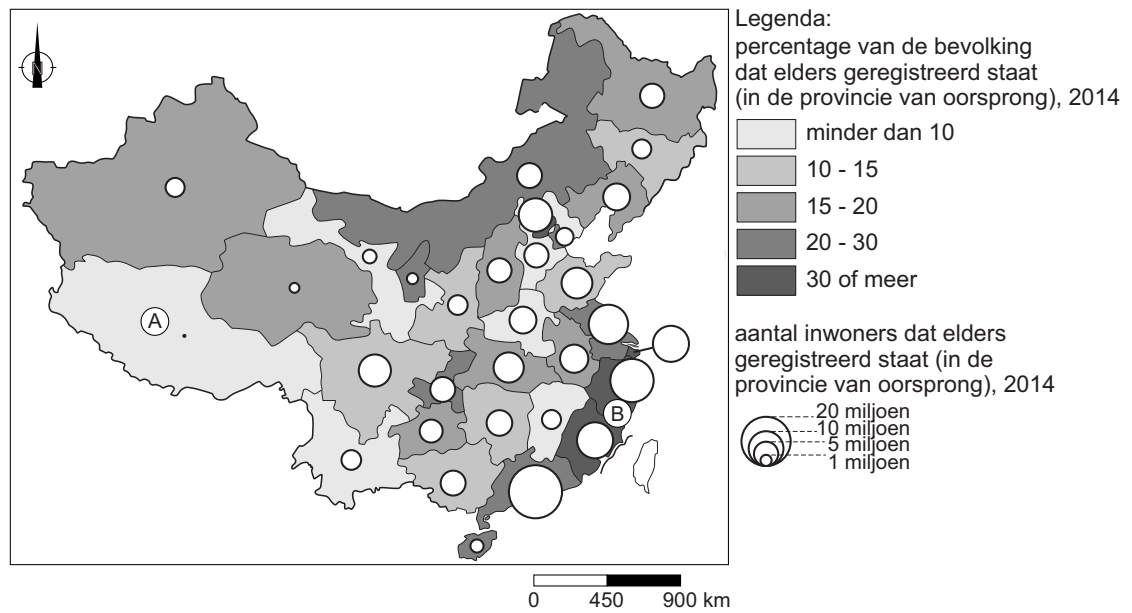
Uitspraak 1: tussen 2000 en 2010 was het geboortecijfer in China lager dan in Duitsland.

Uitspraak 2: Duitsland en China hadden in 2000 allebei een negatieve natuurlijke groei.

→ Neem de cijfers 1 en 2 van de uitspraken over op het antwoordblad en zet erachter of de uitspraak juist of onjuist is.

bron 39

Binnenlandse migratie in China



1p 41 Bekijk bron 39.

Naar aanleiding van bron 39 worden twee uitspraken gedaan.

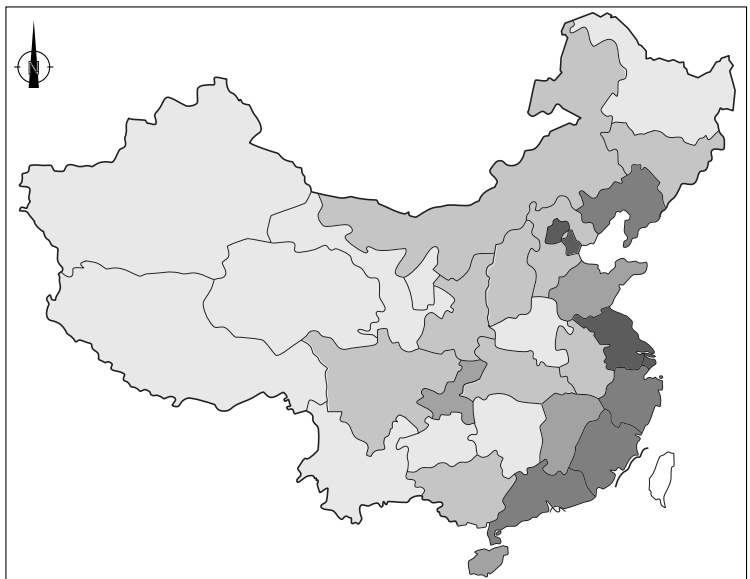
Uitspraak 1: in gebied B is er sprake van braindrain.

Uitspraak 2: in steden aan de oostkust wonen meer mensen met een hukou die niet past bij hun woongebied dan op het platteland.

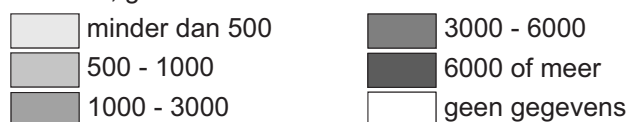
→ Neem de cijfers 1 en 2 van de uitspraken over op het antwoordblad en zet erachter of de uitspraak juist of onjuist is.

bron 40

Buitenlandse investeringen in China



Legenda:
buitenlandse investeringen per inwoner
in euro's, gemiddeld 2013-2014



bron 41

Tekst over buitenlandse investeringen

Vanaf ... **1** ... (1960 / 1980) werd China opengesteld voor buitenlandse investeringen. Voor de handel is de ... **2** ... (*goede infrastructuur naar het westen van China / ligging aan zee*) belangrijk voor buitenlandse bedrijven. Hierdoor zette de ... **3** ... (*urbanisatie / suburbanisatie*) in China door. De migranten zijn voornamelijk ... **4** ... (*economische / politieke*) migranten.

2p **42** Bekijk bron 40 en lees bron 41.

In bron 41 staat achter de cijfers 1, 2, 3 en 4 een keuzemogelijkheid.

→ Neem de cijfers 1, 2, 3 en 4 uit bron 41 over op het antwoordblad en zet de juiste keuze erachter.

bron 42

Luchtvervuiling in Beijing

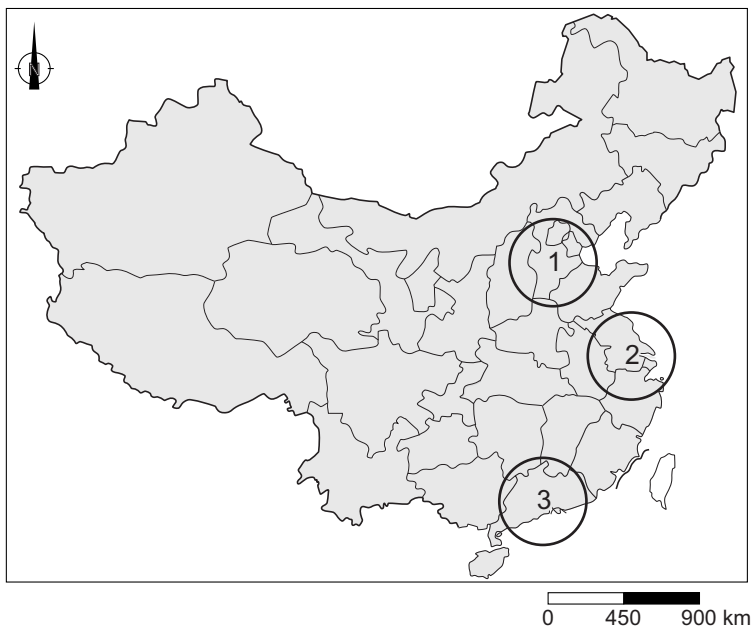


1p **43** Bekijk bron 42.

De foto in bron 42 bestaat uit twee delen: het linkerdeel is gemaakt op een heldere dag en het rechterdeel met ernstige luchtvervuiling. Ernstige luchtvervuiling komt regelmatig voor in Beijing en vooral in de winter. Deze luchtvervuiling wordt door mensen veroorzaakt.

→ Noem de reden waarom ernstige luchtvervuiling in de winter in Beijing vaker voorkomt dan in de zomer.

bron 43
China

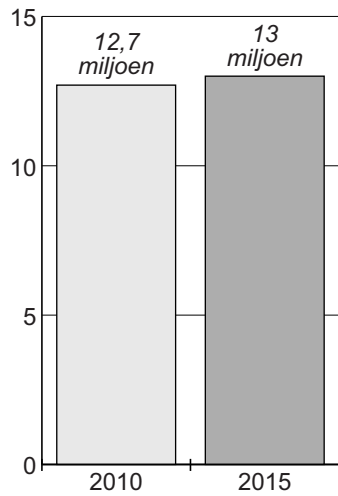


- 1p **44** Bekijk bron 43.
Waar staat juist aangegeven in welk gebied Guangzhou en in welk gebied Shanghai ligt?

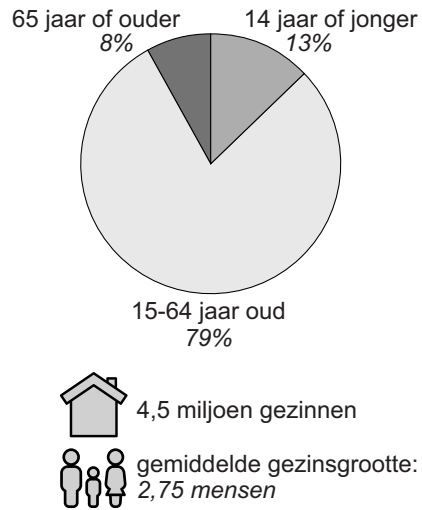
	Guangzhou	Shanghai
A	in gebied 1	in gebied 2
B	in gebied 1	in gebied 3
C	in gebied 2	in gebied 1
D	in gebied 2	in gebied 3
E	in gebied 3	in gebied 1
F	in gebied 3	in gebied 2

bron 44
Bevolking in Guangzhou

inwoneraantal van Guangzhou



bevolkingsopbouw in 2015



- 1p 45 Bekijk bron 44.
De bevolkingsgroei in Guangzhou is voornamelijk te danken aan migratie.
→ Geef hiervoor een aanwijzing vanuit bron 44.

bron 45
De wijk Shikumen



- 2p 46 Bekijk bron 45.
In het centrum van Chinese steden worden veel oude wijken zoals de wijk Shikumen gesloopt.
→ Noem twee redenen waarom deze wijken worden gesloopt.

Bronvermelding

Een opsomming van de in dit examen gebruikte bronnen, zoals teksten en afbeeldingen, is te vinden in het bij dit examen behorende correctievoorschrift, dat na afloop van het examen wordt gepubliceerd.