

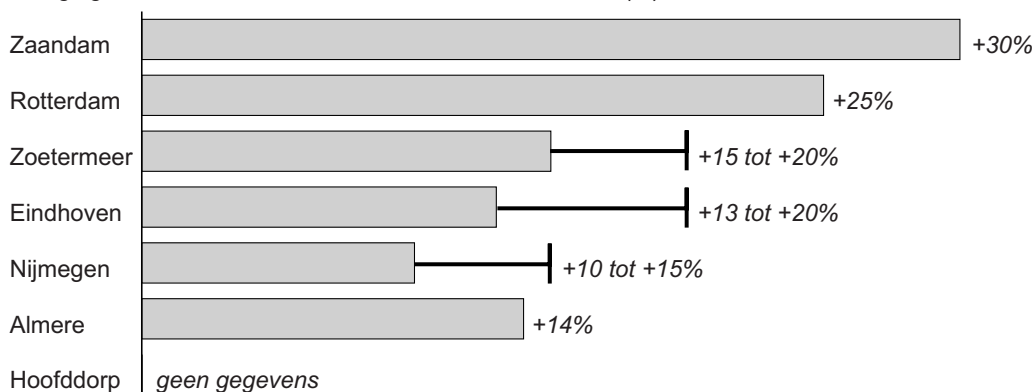
Bevolking en ruimte

bron 25

Krantenartikel

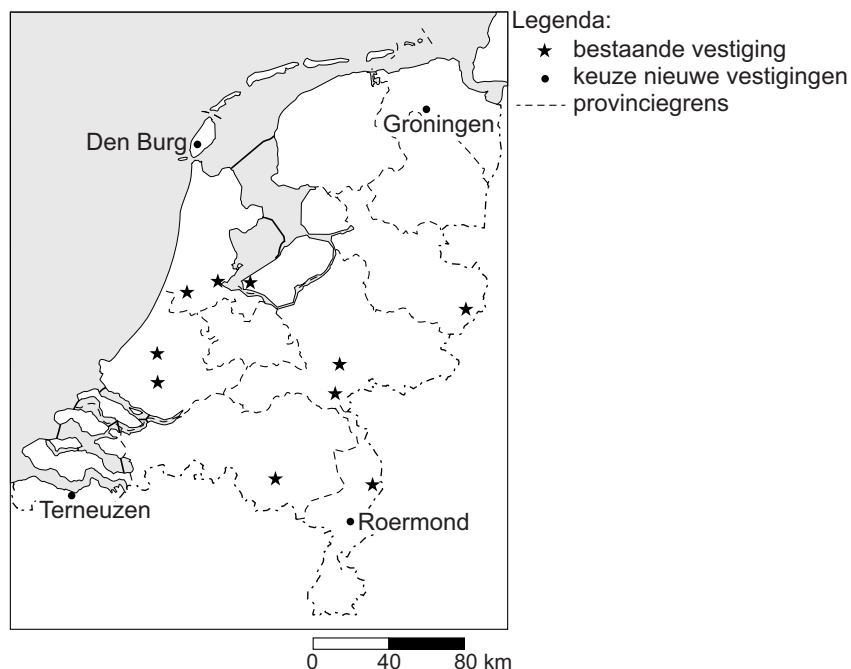
ARNHEM - Kledingwinkel Primark opende eind maart 2014 een winkel in Nijmegen. Daar stonden toen duizenden mensen voor de deur om de opening mee te maken. Het Ierse concern opent op 30 september 2014 zijn zevende filiaal in Nederland aan de Ketelstraat in Arnhem.

Bezoekerstoename in betreffende stad sinds / door komst Primark (%)



bron 26


Vestigingen Primark (januari 2014) en keuzeplaatsen nieuwe vestiging



- 1p **29** Lees bron 25 en bekijk bron 26.
Twee leerlingen doen een uitspraak over de gevolgen van de komst van Primark naar Arnhem.
Daan zegt: "Door de komst van Primark naar Arnhem zal het verzorgingsgebied van de Primark in Nijmegen groter worden."
Fleur zegt: "Door de komst van Primark zal ook de horeca profiteren."
Wat is juist?
A Alleen de uitspraak van Daan is juist.
B Alleen de uitspraak van Fleur is juist.
C Beide uitspraken zijn juist.
D Beide uitspraken zijn onjuist.
- 1p **30** Lees bron 25 en bekijk bron 26.
Primark is succesvol in Nederland. De eerste vestiging werd in december 2008 geopend in Rotterdam. In 2014 waren er ook al vestigingen in Almere, Hoofddorp, Zaandam, Zoetermeer, Eindhoven, Venlo, Arnhem, Nijmegen en Enschede. Er zijn verschillende nieuwe vestigingen gepland. In welke plaats kan Primark het best een nieuwe vestiging openen?
A in Den Burg
B in Groningen
C in Roermond
D in Terneuzen
- 1p **31** Toen Primark zich in Nijmegen vestigde, nam het bezoekersaantal in Nijmegen sterk toe. Thirza beweert dat de bezoekerstoename door de vestiging van Primark in Arnhem lager zal zijn dan die in Nijmegen.
→ Geef met behulp van bron 26 een argument om deze voorspelling te onderbouwen.
- 1p **32** Op 1 januari 2015 bestond de bevolking van Nederland uit (afgerond) 17.000.000 mensen.
Stel dat het geboortecijfer in dat jaar 10 was en het sterftcijfer 8.
Hoe groot was dan de natuurlijke groei in 2015?
A 34.000
B 340.000
C 17.034.000
D 17.340.000

bron 27

Nederland, bevolkingsontwikkeling 2010-2025



- 2p **33** Bekijk bron 27.
Gebieden die te maken hebben met een (sterke) terugloop van de bevolking kunnen problemen krijgen op verschillende gebieden.
→ Geef twee negatieve gevolgen van bevolkingsterugloop voor de leefbaarheid.
- 1p **34** Bekijk bron 27.
→ Geef een oorzaak waardoor de bevolkingsontwikkeling in de provincie Flevoland afwijkt van Nederland gemiddeld.

bron 28

Vier foto's van de stad

foto 1



foto 2



foto 3



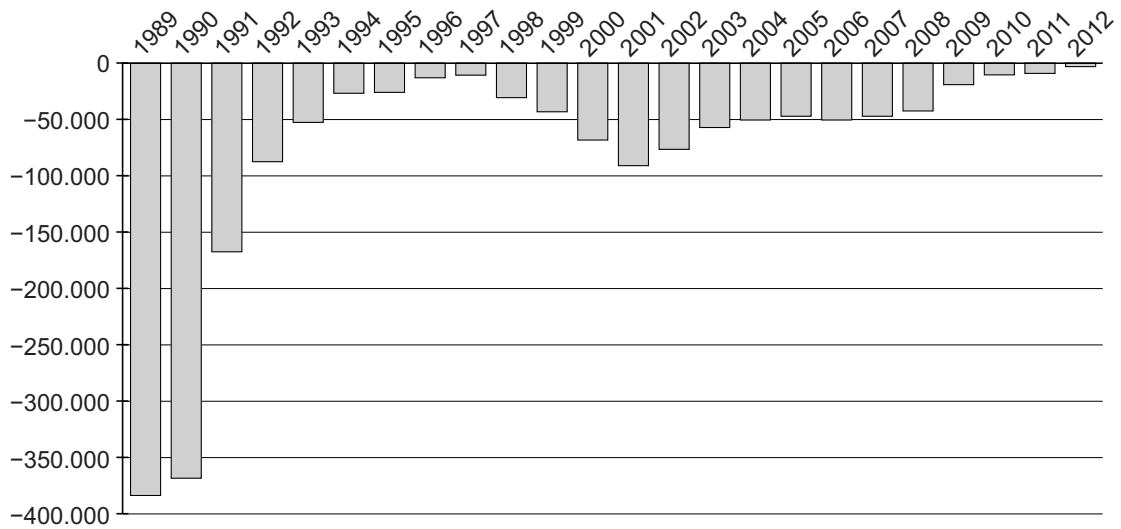
foto 4



- 1p 35 Bekijk de foto's in bron 28.
Een leerling krijgt de opdracht om de vier foto's in de juiste volgorde te zetten vanuit het centrum van de stad naar de buitenrand van de stad.
Wat is de juiste volgorde bij een stad met een concentrisch groeimodel?
- A foto 1 - foto 2 - foto 3 - foto 4
 - B foto 2 - foto 3 - foto 1 - foto 4
 - C foto 2 - foto 3 - foto 4 - foto 1
 - D foto 2 - foto 4 - foto 3 - foto 1
 - E foto 3 - foto 2 - foto 4 - foto 1

bron 29

Migratiesaldo van (voormalig) Oost-Duitsland naar (voormalig) West-Duitsland in personen per jaar, 1989 - 2012



- 1p **36** Bekijk bron 29.
In 1989 en 1990 vestigden veel mensen uit het oosten van Duitsland zich in het westen van Duitsland.
→ Geef hiervan de politieke oorzaak.
- 2p **37** Een deel van de inwoners van Duitsland komt oorspronkelijk uit Turkije. Deze mensen kwamen in de jaren 60 van de vorige eeuw vanuit Turkije naar Duitsland.
→ Noem twee positieve economische gevolgen van deze migratie voor **Turkije**.

bron 30

Foto's van vier Duitse steden

foto 1 herinrichting stad na terugloop bevolking



foto 2 financieel zakencentrum



foto 3 historische binnenstad met uitzicht op de Alpen



foto 4 havenstad

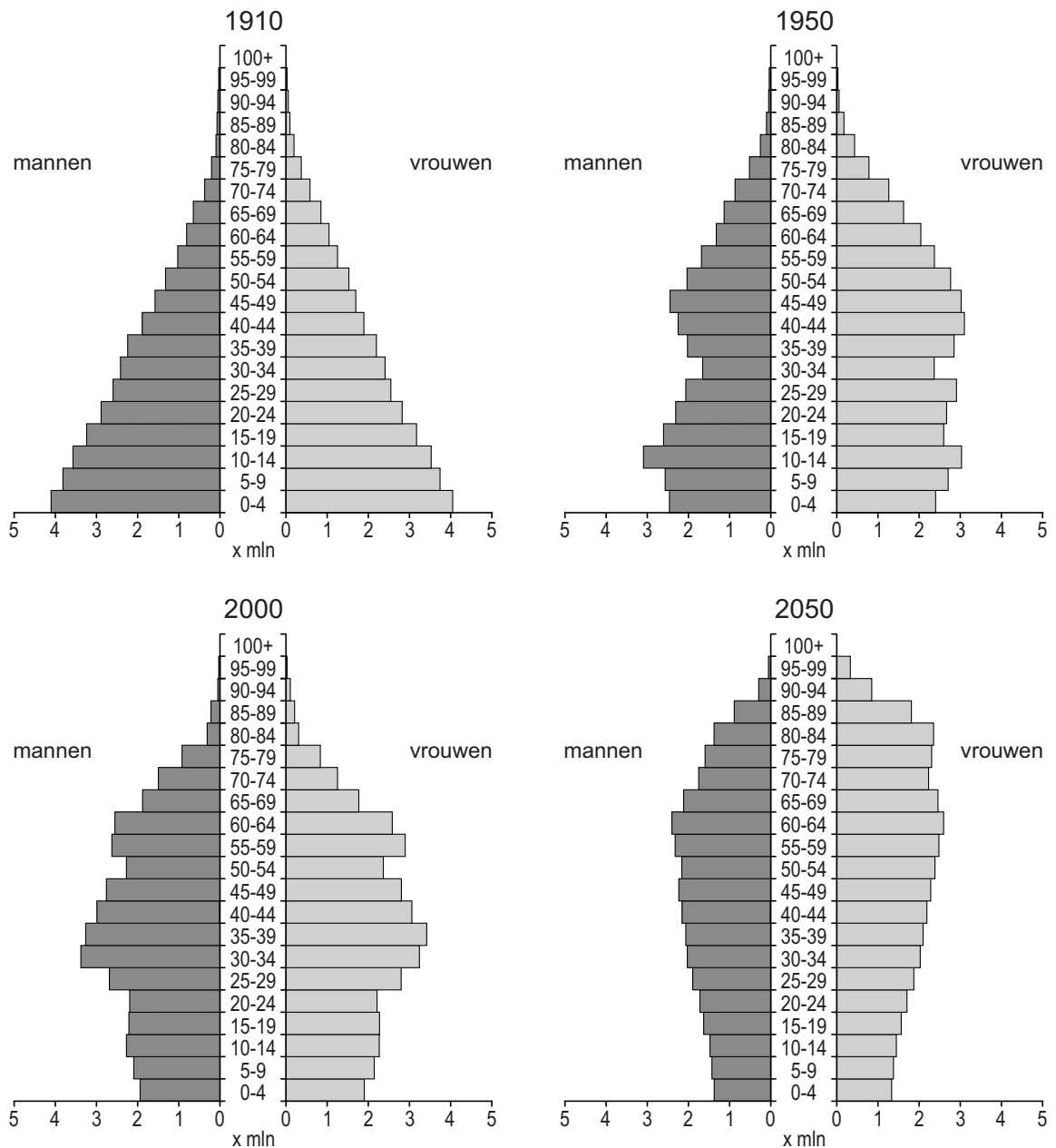


- 1p 38 In bron 30 zie je foto's van vier Duitse steden. Bij elke foto is een kenmerk van de stad aangegeven. Achter welke letter staan de juiste plaatsnamen bij de foto's 1, 2, 3 en 4?

	foto 1	foto 2	foto 3	foto 4
A	Leipzig	Frankfurt	Hamburg	München
B	Leipzig	Frankfurt	München	Hamburg
C	Frankfurt	Leipzig	München	Hamburg
D	Hamburg	München	Leipzig	Frankfurt
E	München	Hamburg	Frankfurt	Leipzig
F	München	Hamburg	Leipzig	Frankfurt

bron 31

Duitsland, bevolkingsgrafieken 1910, 1950, 2000 en 2050



2p 39 Daan, Ferdinand en Rosa hebben een discussie over de bevolkingsgrafieken in bron 31.

Daan zegt: "Duitsland had tussen 1910 en 1950 te maken met ontgroening."

Ferdinand zegt: "Uit de bevolkingsopbouw kun je afleiden dat de beroepsbevolking na 2000 daalt."

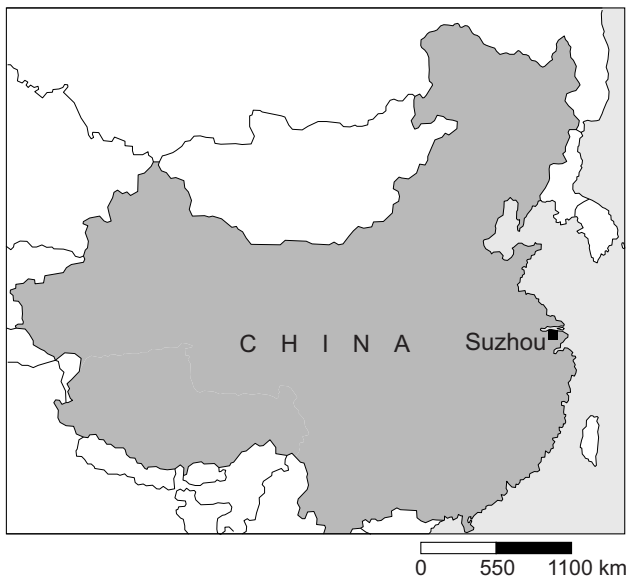
Rosa zegt: "Er is duidelijk sprake van vergrijzing tussen 2000 en 2050."

→ Neem de namen Daan, Ferdinand en Rosa over op het antwoordblad en geef bij elke uitspraak aan of deze juist of onjuist is.

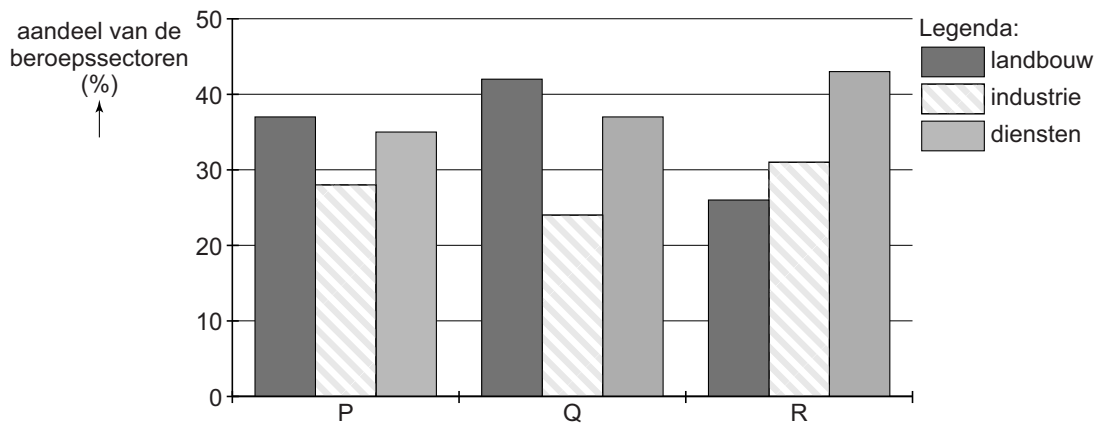
- 1p 40 Ilse en Bart zijn op vakantie in Beijing en maken een fietstocht door een traditionele woonwijk.
Achter welke letter staan de naam, het stratenpatroon en de bevolkingsdichtheid van zo'n traditionele woonwijk juist vermeld?

	naam	stratenpatroon	bevolkingsdichtheid
A	hukou	brede straten	hoog
B	hukou	smalle straten	laag
C	hutong	brede straten	laag
D	hutong	smalle straten	hoog

bron 32
China



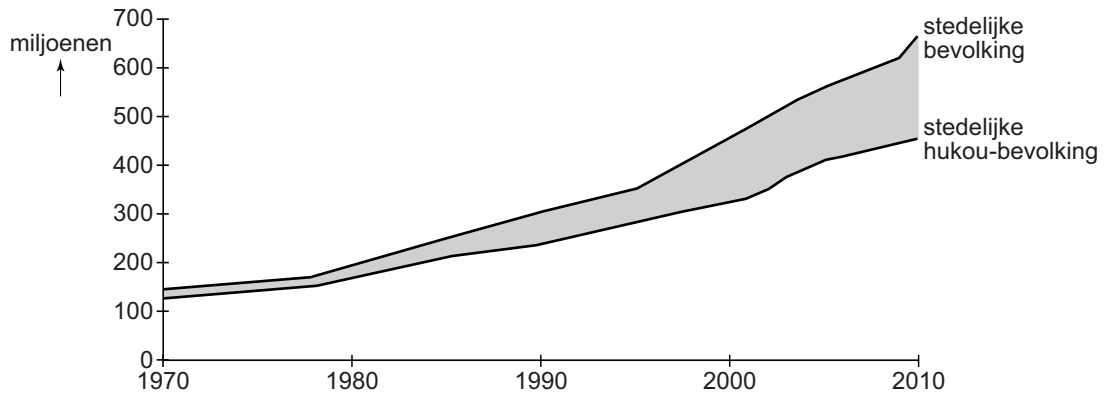
bron 33
Verdeling van de beroepssectoren in de gemeente Suzhou



- 1p 41 Bekijk bron 32 en bron 33.
De gegevens in bron 33 zijn van de gemeente Suzhou. Ze staan in willekeurige volgorde en zijn van 1995, 2000 en 2005. In de loop van de tijd vonden er verschuivingen plaats tussen de beroepssectoren.
→ Neem de jaartallen 1995, 2000 en 2005 over op het antwoordblad en schrijf er de juiste letters uit bron 33 achter.
Kies uit: P, Q en R

bron 34

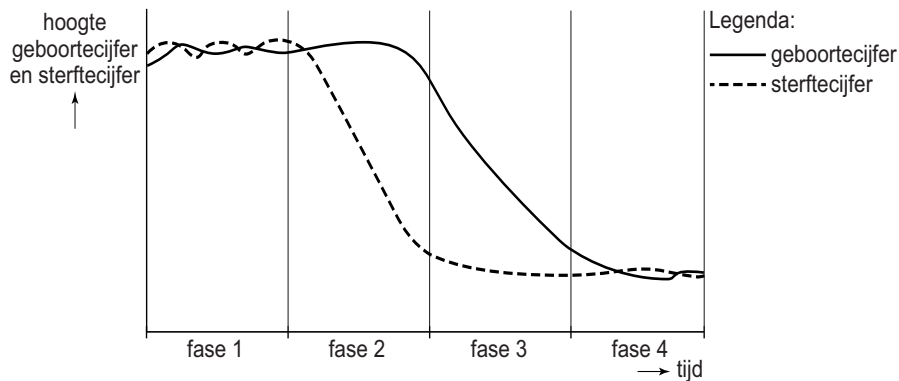
China, groei stedelijke bevolking en groei stedelijke hukou-bevolking, 1970 - 2010



- 2p 42 In bron 34 is de ontwikkeling van de totale stedelijke bevolking en de stedelijke bevolking met een hukou voor de stad weergegeven.
→ Wie worden bedoeld met de stedelijke hukou-bevolking?
→ Welke groep stadsbewoners wordt weergegeven door het grijsgekleurde gebied in bron 34?

bron 35

Demografisch transitie-model



- 1p 43 Bekijk bron 35.
Alle landen zijn in te delen bij een bepaalde fase van het transitie-model.
Achter welke letter staat bij elk land voor 2015 de juiste transitiefase?

	China	Nederland	Duitsland
A	fase 2	fase 3	fase 4
B	fase 3	fase 3	fase 4
C	fase 3	fase 4	fase 4
D	fase 4	fase 4	fase 4

Bronvermelding

Een opsomming van de in dit examen gebruikte bronnen, zoals teksten en afbeeldingen, is te vinden in het bij dit examen behorende correctievoorschrift, dat na afloop van het examen wordt gepubliceerd.