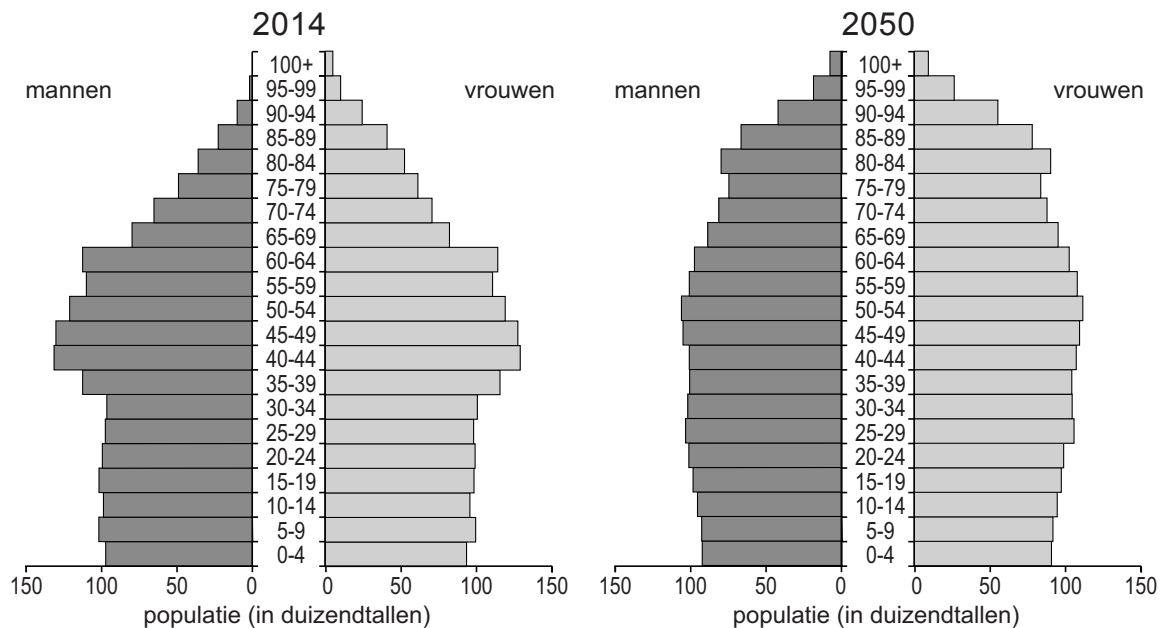


bron 27

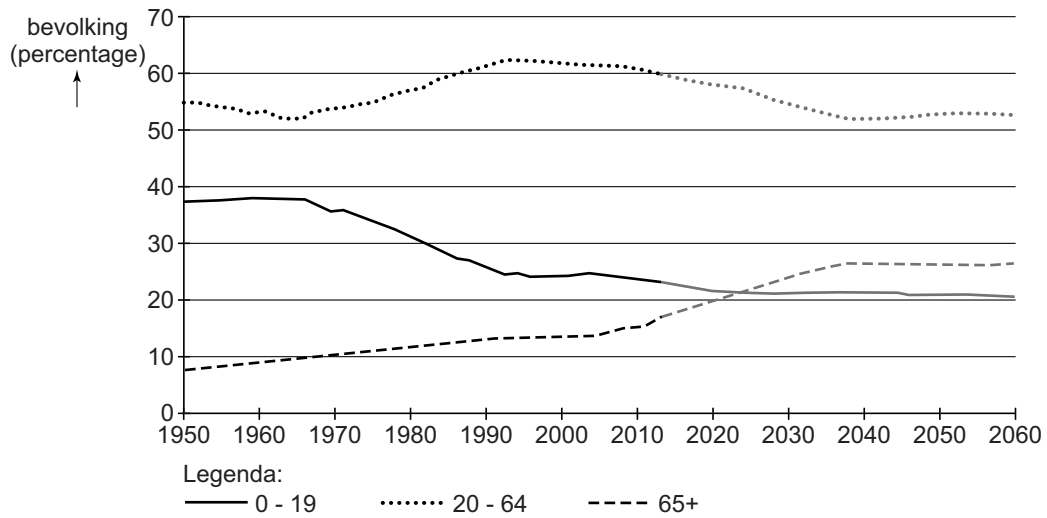
Nederland, leeftijdsdiagrammen van 2014 en 2050



- 1p 30 Er worden drie beweringen gedaan over de leeftijdsdiagrammen van 2014 en 2050 in bron 27.
Welke bewering is juist?
- A De beroepsbevolking is in 2014 even groot als in 2050.
 - B De levensverwachting is in 2050 lager dan in 2014.
 - C Tussen 2014 en 2050 is de vergrijzing groter dan de ontgroening.

bron 28

Nederland, aandeel 0-19-jarigen, 20-64-jarigen en 65-plussers in de totale bevolking, 1950 – 2013 en prognose 2014 – 2060



- 1p 31 Zie bron 28.
Bijna de hele beroepsbevolking in Nederland zit in de leeftijdsgroep 20 - 65 jaar.
→ Door welke oorzaak, die af te leiden is uit bron 28, zal de beroepsbevolking in Nederland in de toekomst vooral dalen?

bron 29

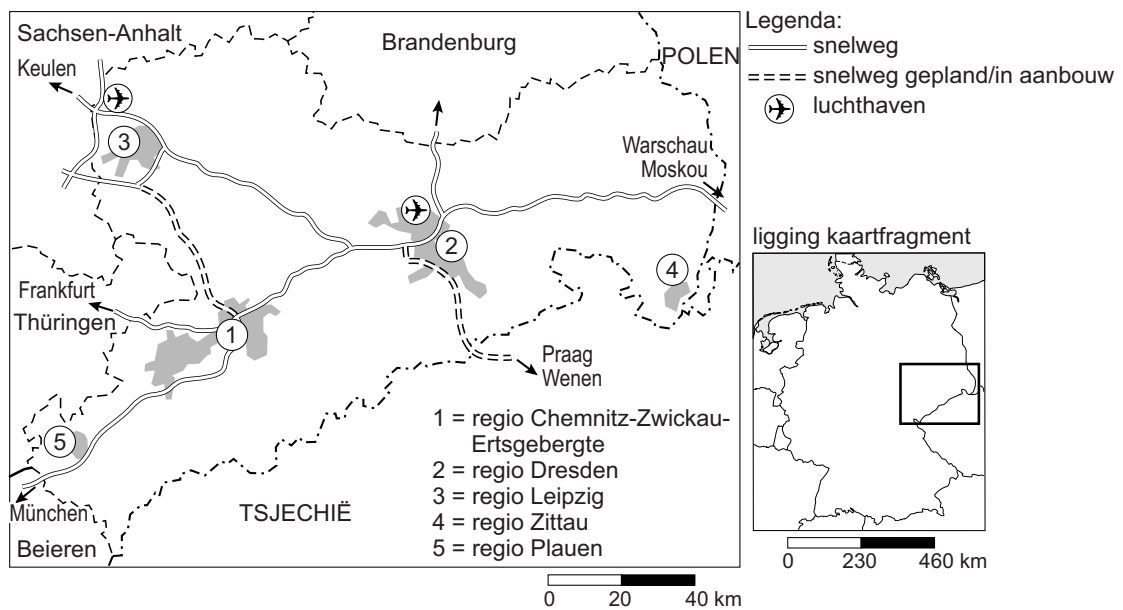
Duitsland, groei bevolking en leeftijdsgroepen

jaar	Leeftijdsgroep 0-19 jaar	Leeftijdsgroep 20-64 jaar	Leeftijdsgroep 65+	Totale bevolking in mln
1990	22%	63%	15%	79,8
2000	21%	62%	17%	82,3
2010	18%	61%	21%	81,5
2020	17%	60%	23%	79,9
2030	17%	57%	26%	76,8
2040	16%	52%	32%	73,8
2050	16%	51%	33%	69,4
2060	16%	50%	34%	64,7

- 1p 32 Sanne en Judith doen ieder een bewering op basis van bron 28 en 29.
Sanne zegt: "De ontgroening is in Nederland tussen 1990 en 2060 sterker dan in Duitsland."
Judith zegt: "Tot 2060 is het percentage 65-plussers in Duitsland steeds hoger dan in Nederland."
→ Neem de namen Sanne en Judith over op het antwoordblad en geef bij elke bewering aan of deze juist of onjuist is.
- 2p 33 Stel dat de regering van Duitsland ontevreden is over de bevolkingsontwikkeling in Duitsland, dan zou de regering maatregelen kunnen nemen om de bevolkingsgroei te bevorderen.
→ Noem eerst maatregel om de **natuurlijke** bevolkingsgroei te bevorderen.
→ Noem vervolgens een maatregel om de **sociale** bevolkingsgroei te bevorderen.

bron 30

Overzicht van de regio Chemnitz, Leipzig en Dresden



bron 31

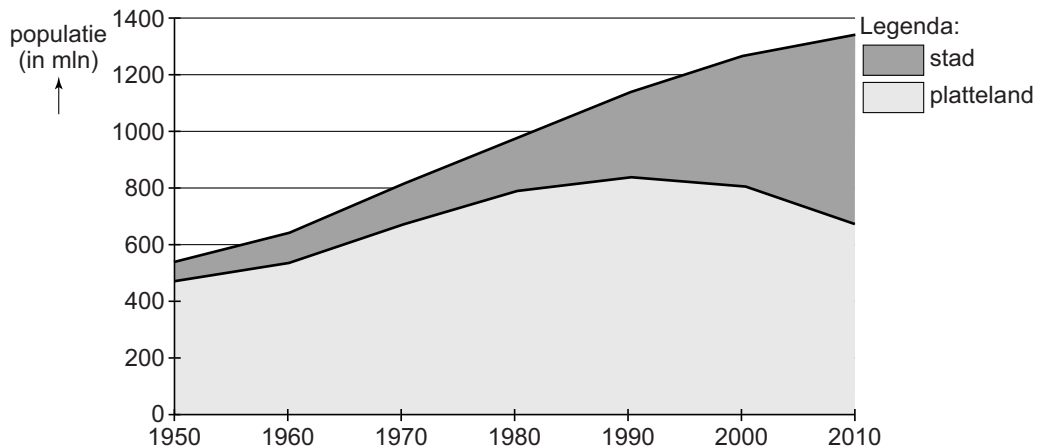
Tekst

De regio Chemnitz valt onder de deelstaat Sachsen. Deelstaat Sachsen behoorde tot het voormalige Oost-Duitsland. Na de hereniging van de beide Duitslanden in 1989 trokken veel mensen weg uit Sachsen.

- 2p 34 Bekijk bron 30 en lees bron 31.
→ Noem met behulp van bron 30 twee aantrekkingsfactoren die de regio Chemnitz voor bedrijven aantrekkelijk maakt om zich daar te vestigen.
- 2p 35 Bekijk bron 30 en lees bron 31.
De Duitse overheid heeft bedrijven als VW en BMW gesubsidieerd om zich te vestigen in deze regio.
→ Noem hiervoor twee redenen.
- 1p 36 Wat was het **eerste** gevolg van de eenkindpolitiek in China?
A geboorteoverschot
B ontgroening
C sterfteoverschot
D vergrijzing

bron 32

De ontwikkeling van de bevolking van stad en platteland in China, 1950 – 2010



- 2p 37 Teun, Lieke en Anouk doen ieder een bewering over bron 32.
Teun zegt: “De totale Chinese bevolking is in de periode 1950 – 2010 meer dan verdubbeld.”
Lieke zegt: “De stedelijke bevolking groeit even hard als de totale bevolking.”
Anouk zegt: “De groei van een stad wordt niet alleen bepaald door de groei van de werkgelegenheid in de industrie.”
→ Neem de namen Teun, Lieke en Anouk over op het antwoordblad en geef van elke bewering aan of deze juist of onjuist is.
- 1p 38 Migranten die van het Chinese platteland naar de stad willen verhuizen, krijgen te maken met de regels van het hukousysteem.
Wat is een gevolg van het hukousysteem?
A de afbraak van de hutongs
B de groei van voorzieningen in steden
C gezinshereniging in steden
D meer sociale ongelijkheid in steden
- 1p 39 De Chinese overheid denkt erover om het hukousysteem af te schaffen.
→ Noem een voordeel voor migranten van een versoepeling of het afschaffen van het hukousysteem ten opzichte van de oude situatie.

bron 33

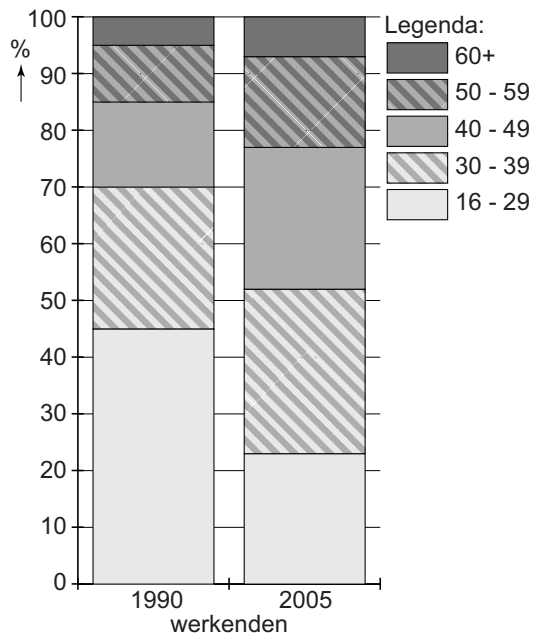
Krantenartikel

13 mei 2013 – Meer dan 60 miljoen Chinese kinderen zien hun ouders zelden of nooit. Ze wonen bij grootouders of familieleden. De ouders zijn naar grote steden zoals Guangzhou of Shanghai vertrokken.

- 1p 40 Lees bron 33.
Welk begrip past het best bij de ouders van deze kinderen?
A arbeidsmigranten
B emigranten
C immigranten
D remigranten

bron 34

Verdeling van de beroepsbevolking in China over de leeftijdsgroepen, 1990 en 2005



- 1p 41 Zie bron 34.
→ Noem een oorzaak waardoor de groep 16-29 jaar binnen de beroepsbevolking is afgenomen tussen 1990 en 2005.

bron 35

Lopen is veiliger dan fietsen in de metropool Harbin

De smog in de metropool Harbin is regelmatig zo dik dat de verkeersveiligheid niet langer wordt gegarandeerd. Soms is het zicht minder dan 20 meter; automobilisten zien in het ergste geval het rode stoplicht niet meer. Een maatregel om smog te beperken is om auto's met een even en een oneven kenteken om de dag te laten rijden. Ook worden regelmatig autowegen afgesloten omdat men bang is voor ongevallen.



- 1p 42 Zie bron 35.
→ Noem naast het verkeer nog een menselijke oorzaak van smog.

Bronvermelding

Een opsomming van de in dit examen gebruikte bronnen, zoals teksten en afbeeldingen, is te vinden in het bij dit examen behorende correctievoorschrift, dat na afloop van het examen wordt gepubliceerd.