

Bevolking en ruimte

- 1p 32 Sinds de Tweede Wereldoorlog zie je dat de herkomstgebieden van immigranten per periode verschillen. Waar staat bij elke periode het belangrijkste herkomstgebied van deze immigranten juist?

	rond 1949	1960-1970	rond 1975	1990-2000
A	Indonesië	landen rondom de Middellandse Zee	Oost-Europa	Suriname
B	Indonesië	landen rondom de Middellandse Zee	Suriname	Oost-Europa
C	landen rondom de Middellandse Zee	Oost-Europa	Indonesië	Suriname
D	landen rondom de Middellandse Zee	Suriname	Indonesië	Oost-Europa

bron 23

Vier woningtypen

type 1: appartement



type 2: eengezinswoning



type 3: grachtenpand



type 4: villa



1p 33

Bekijk bron 23.

Door vergrijzing verandert de woningbehoefte.

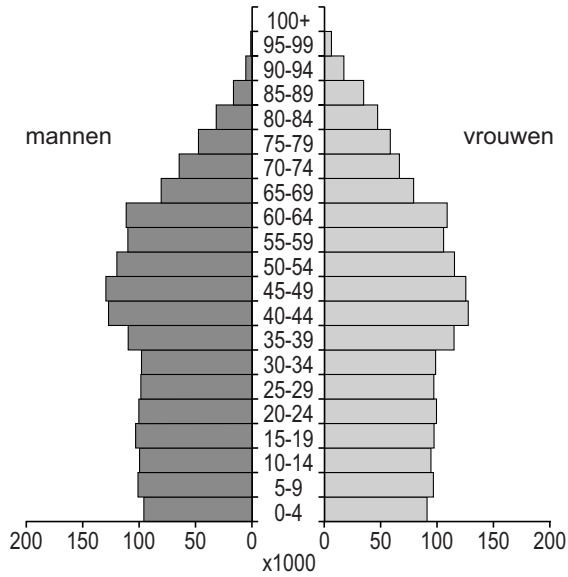
Naar welk woningtype nam door vergrijzing de vraag het meest toe?

- A naar appartementen
- B naar eengezinswoningen
- C naar grachtenpanden
- D naar villa's

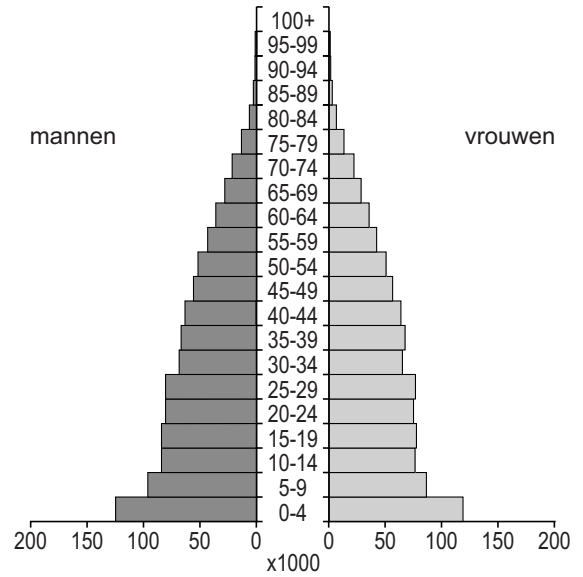
bron 24

Bevolkingsdiagrammen van Nederland in 1950, 2010 en 2050 (verwachting)

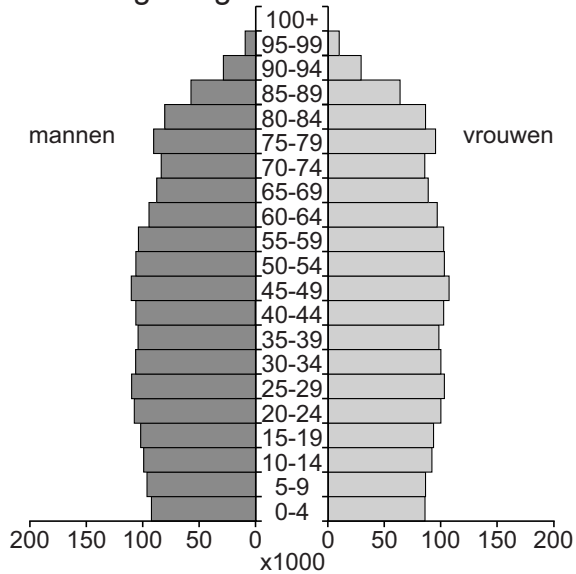
bevolkingsdiagram 1



bevolkingsdiagram 2



bevolkingsdiagram 3



1p 34 Bekijk bron 24.

De bevolkingsdiagrammen in bron 24 horen bij drie verschillende jaartallen.

Waar staan de jaartallen juist bij de drie bevolkingsdiagrammen?

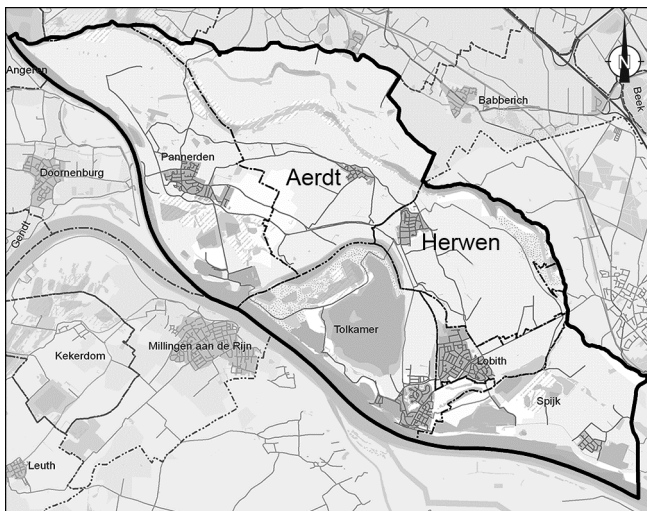
	bevolkingsdiagram 1	bevolkingsdiagram 2	bevolkingsdiagram 3
A	1950	2010	2050
B	1950	2050	2010
C	2010	1950	2050
D	2010	2050	1950
E	2050	1950	2010
F	2050	2010	1950

bron 25
Krantenartikel

School Aerdts dicht door fusie met basisschool in Herwen

Basisschool De Driehoek in Aerdts had nog maar 36 leerlingen. Dat is onder de opheffingsnorm van 44 leerlingen. Daarom sloot De Driehoek in Aerdts in augustus 2016. De Driehoek fuseerde met een basisschool in Herwen. Herwen is een ander dorp in de gemeente Rijnwaarden.

bron 26
Gemeente Rijnwaarden



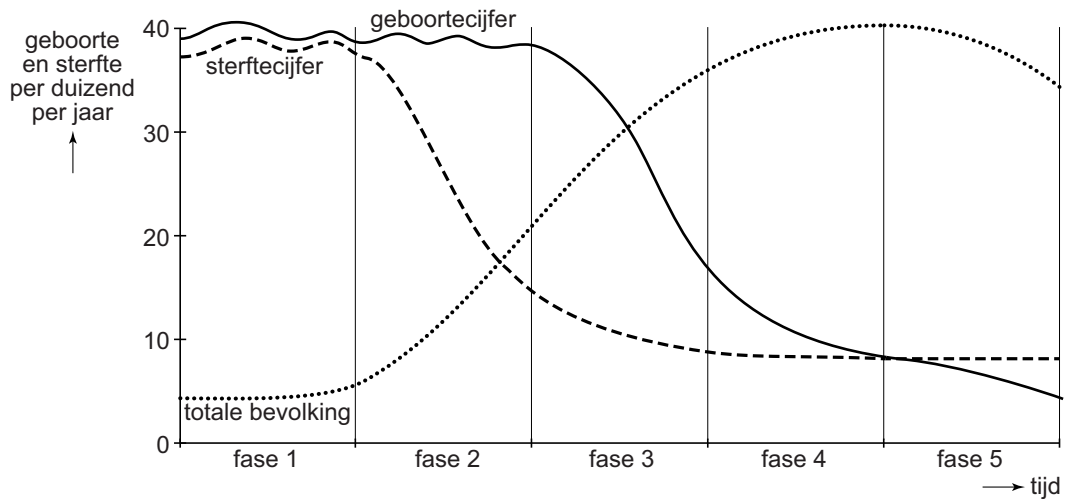
Legenda:
— Rijnwaarden
0 1,5 3 km

- 1p 35 Lees bron 25 en bekijk bron 26.
Waar staan de juiste gegevens over de drempelwaarde van de oude school en het verzorgingsgebied van de nieuwe school waar de leerlingen naartoe gaan?

	de drempelwaarde van De Driehoek in Aerdts wordt	het verzorgingsgebied van de basisschool in Herwen wordt
A	niet meer behaald	kleiner
B	niet meer behaald	groter
C	overschreden	kleiner
D	overschreden	groter

bron 27

Demografisch transitie­model



1p 36 Bekijk bron 27.

Over het demografisch transitie­model worden twee uitspraken gedaan.

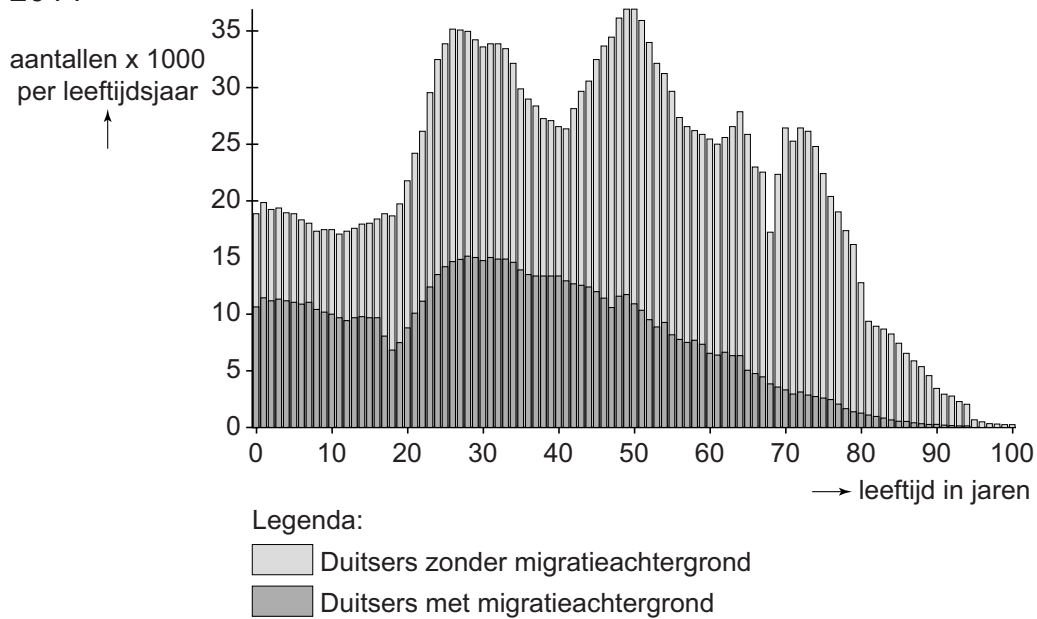
Uitspraak 1: in fase 1 is er weinig natuurlijke bevolkings­groei.

Uitspraak 2: in fase 5 neemt de totale bevolking af.

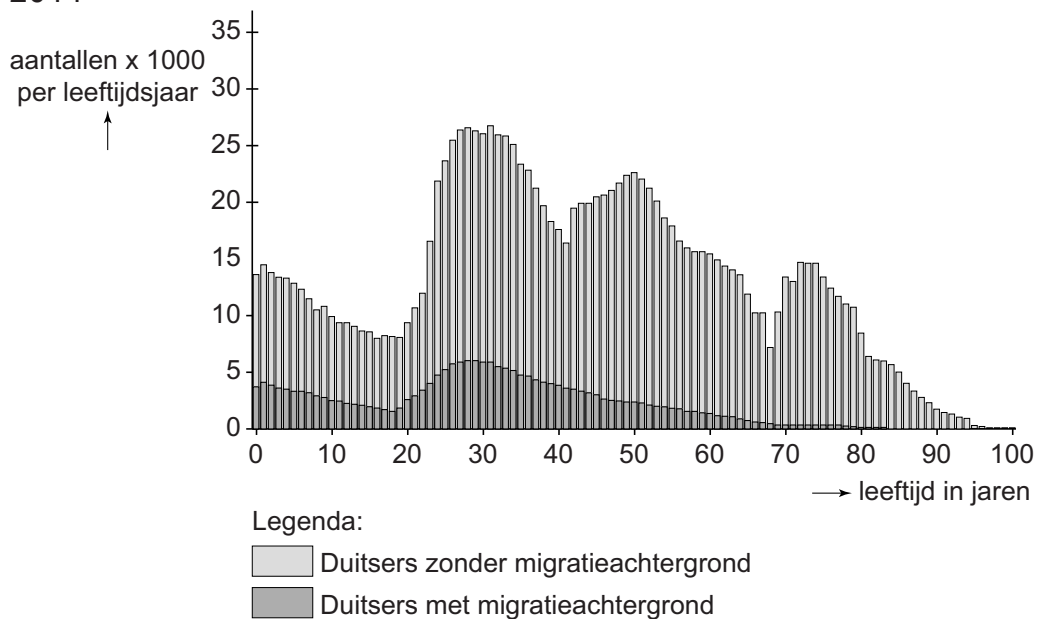
→ Neem de cijfers 1 en 2 van de uitspraken over op het antwoord­blad en zet erachter of de uitspraak juist of onjuist is.

bron 28

Het aantal inwoners van West-Berlijn met en zonder migratieachtergrond, 2014



Het aantal inwoners van Oost-Berlijn met en zonder migratieachtergrond, 2014



1p 37 Bekijk bron 28.

In de staafgrafieken in bron 28 staat aangegeven hoeveel mensen er in (voormalig) West- en Oost-Berlijn per leeftijdsgroep zijn. In beide staafgrafieken is ook aangegeven welk deel van de inwoners een migratieachtergrond heeft en welk deel niet.

→ Geef een politieke verklaring voor het verschil in het aandeel inwoners met een migratieachtergrond.

bron 29

Duitsers met een migratieachtergrond (naar herkomstland), 2014 en 2015

herkomstland	2014	2015	verandering 2015 ten opzichte van 2014
1 ... P ...	1.527.118	1.506.113	-21.005
2 ... Q ...	674.152	740.962	66.810
3 Italië	574.530	596.127	21.597
4 Roemenië	355.343	452.718	97.375
5 ... R ...	118.196	366.556	248.360

1p 38 Bekijk bron 29.

In bron 29 staat de top 5 van herkomstlanden van Duitsers met een migratieachtergrond in 2014 en 2015. Drie herkomstlanden zijn vervangen door de letters P, Q en R.

Waar staan de landen juist bij de letters P, Q en R uit bron 29?

	P	Q	R
A	Polen	Turkije	Syrië
B	Rusland	Turkije	Syrië
C	Turkije	Polen	Syrië
D	Turkije	Rusland	Polen
E	Syrië	Polen	Rusland
F	Syrië	Rusland	Polen

bron 30

Landschapspark Duisburg-Noord

**bron 31**

Artikel van een website

Landschapspark Duisburg-Noord

Het landschapspark is een multifunctioneel attractiepark dat behoort tot de grootste bezienswaardigheden van Noordrijn-Westfalen. Tussen 1991 en 2002 werd het terrein als openbaar park ingericht. Het is nu een groen vrijetijdspark waar bewoners en toeristen zich heerlijk kunnen ontspannen. Door de lichtkunst ziet het geheel er 's nachts zelfs romantisch uit. Tegenwoordig kun je naar concerten gaan of een theaterstuk bekijken in de voormalige hallen. In de oude Gasometer is het grootste kunstmatige duikcentrum van Europa ontstaan. Een voormalige bunker is omgetoverd tot een klimpark en er is een 70 meter hoge uitkijktoren.

2p **39** Bekijk bron 30 en lees bron 31.

- Van welk (voormalig) industriegebied maakt Duisburg onderdeel uit?
- Toon aan dat hier sprake is van herinrichting.

- 1p 40 China heeft in 2015 de eenkindpolitiek afgeschaft en is overgegaan op een tweekinderenbeleid.
 → Noem een demografisch verschijnsel dat de Chinese regering met dit nieuwe beleid wil tegengaan.
- 2p 41 Na de afschaffing van de eenkindpolitiek mogen Chinezen een tweede kind nemen, maar de verwachting is dat veel mensen dit niet zullen doen.
 → Geef twee sociaal-economische redenen waarom veel gezinnen toch niet zullen kiezen voor een tweede kind.
- 1p 42 Hutongs zijn woonwijken met specifieke kenmerken.
 Waar staan de juiste gegevens bij de drie kenmerken van hutongs?

	sociale contacten	stratenpatroon	sanitair
A	veel	brede straten	geen eigen sanitair
B	veel	nauwe straten	geen eigen sanitair
C	veel	nauwe straten	wel eigen sanitair
D	weinig	brede straten	geen eigen sanitair
E	weinig	brede straten	wel eigen sanitair
F	weinig	nauwe straten	wel eigen sanitair

bron 32

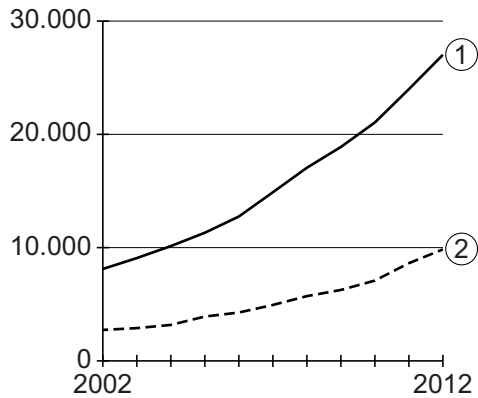
Straatbeeld van Shanghai



- 1p 43 Bekijk bron 32.
 → Noem met behulp van bron 32 een **politiek** argument waarom deze foto **niet** van vóór 1980 kan zijn.

bron 33

Gemiddeld inkomen per hoofd van de bevolking in yuan (munteenheid), 2002-2012



- 1p 44 Bekijk bron 33.
Bron 33 geeft het gemiddeld inkomen per hoofd van de bevolking weer voor het platteland en de stedelijke gebieden in China.
Wat is juist?

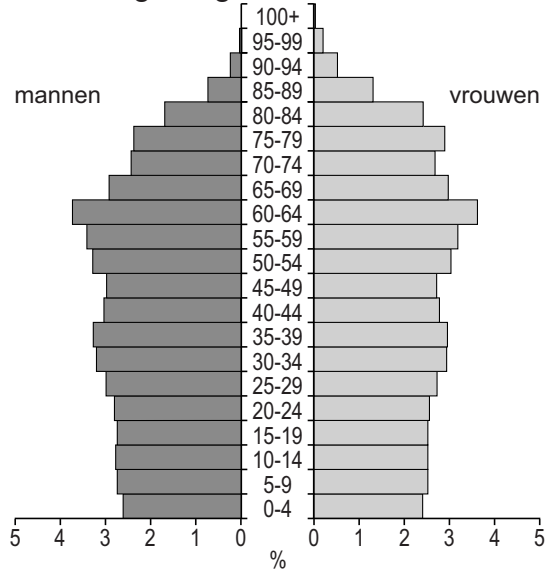
	het inkomen van het platteland is	de sociale ongelijkheid tussen stad en platteland
A	lijn 1	neemt af
B	lijn 1	neemt toe
C	lijn 2	neemt af
D	lijn 2	neemt toe

- 1p 45 Over China worden twee uitspraken gedaan.
Uitspraak 1: een van de grootste oorzaken van smog in China is het gebruik van steenkool.
Uitspraak 2: door urbanisatie is het probleem van congestie in Chinese steden toegenomen.
→ Neem de cijfers 1 en 2 van de uitspraken over op het antwoordblad en zet erachter of de uitspraak juist of onjuist is.

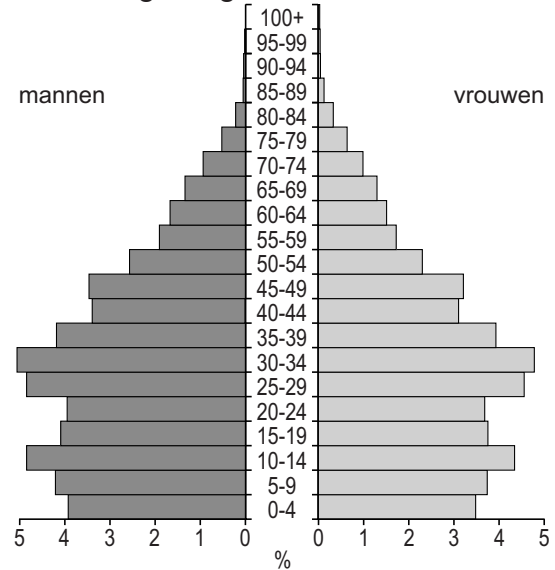
bron 34

Twee bevolkingsdiagrammen van China

bevolkingsdiagram 1



bevolkingsdiagram 2



1p 46 Bekijk bron 34.

Beide bevolkingsdiagrammen zijn van China. Het ene bevolkingsdiagram is van 2000 en het andere bevolkingsdiagram is de verwachting voor 2050.

Wat is juist?

- A Bevolkingsdiagram 1 is van 2050 en de ontgroening neemt af tussen 2000 en 2050.
- B Bevolkingsdiagram 1 is van 2050 en de ontgroening neemt toe tussen 2000 en 2050.
- C Bevolkingsdiagram 2 is van 2050 en de ontgroening neemt af tussen 2000 en 2050.
- D Bevolkingsdiagram 2 is van 2050 en de ontgroening neemt toe tussen 2000 en 2050.

Bronvermelding

Een opsomming van de in dit examen gebruikte bronnen, zoals teksten en afbeeldingen, is te vinden in het bij dit examen behorende correctievoorschrift, dat na afloop van het examen wordt gepubliceerd.