





Hieronder zie je de resultaten in een tabel.

	kleur van de luizen aan het begin	kleuren van de luizen na vier jaar	
kleur duiven	op alle duiven	op de duiven met snavelkapje	op de duiven zonder snavelkapje
			
			

- 2p 30 Op de **uitwerkbijlage** staan drie beweringen over dit onderzoek.
 → Kruis voor elke bewering aan of die juist of onjuist is.

Darmbacteriën

In het verteringskanaal leven nuttige bacteriën en schadelijke bacteriën. Nuttige bacteriën bevorderen een goede werking van de darmen. Schadelijke bacteriën kunnen ontstekingen veroorzaken, waardoor verschillende ziekten kunnen ontstaan.

- 1p 31 Om schadelijke bacteriën in de darmen te bestrijden, kunnen antibiotica gebruikt worden.
 → Leg uit waardoor het gebruik van antibiotica ook nadelig kan zijn voor het goed functioneren van de darmen.
- 2p 32 In voedingsmiddelen met veel vezels komen bepaalde koolhydraten voor die samen als FOS aangeduid worden. Biologen vermoeden dat door FOS het aantal nuttige bacteriën in de darmen van muizen toeneemt. Ze doen een onderzoek om dit aan te tonen.
 → Schrijf een werkplan op voor dit onderzoek.