

<b>uitwerkbijlage</b>
-----------------------

Naam kandidaat \_\_\_\_\_ Kandidaatnummer \_\_\_\_\_

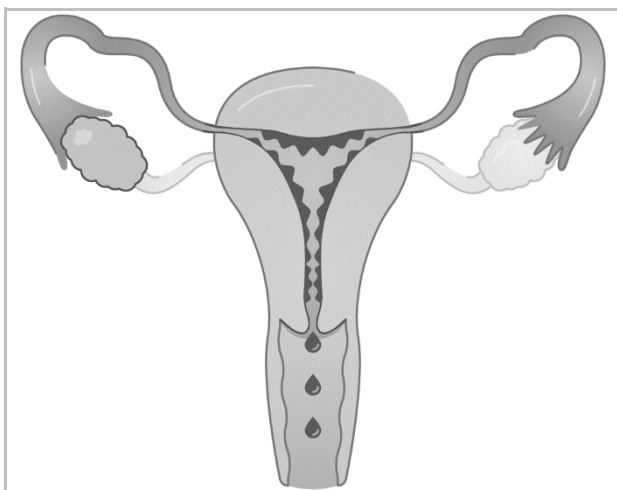
- 4 *Schrijf in de tabel bij elke beschrijving welk type sociaal gedrag erbij hoort.*

beschrijving van sociaal gedrag	type sociaal gedrag
In de paartijd tonen de mannetjes hun krachtige nek om andere mannetjes te verjagen.	
Het vrouwtje rolt het blad op en legt een ei in het opgerolde blad.	

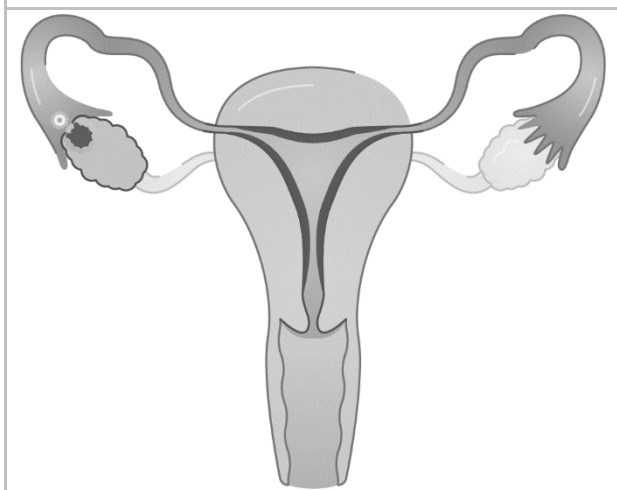
- 13 *Kruis bij elke uitspraak aan of deze juist of onjuist is.*

	juist	onjuist
Het afknippen en stekken van meerdere takken van één moederplant is een manier van geslachtelijke voortplanting.		
De nieuwe planten afkomstig van één moederplant hebben hetzelfde genotype.		

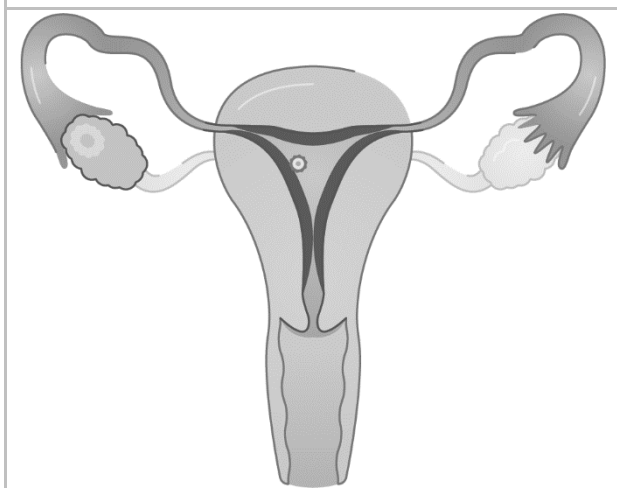
21 Omcirkel de juiste letter uit de informatie bij elke afbeelding.



P / Q / R / S



P / Q / R / S



P / Q / R / S

31 Noteer bij elke functie de letter van het bloeddeeltje dat erbij hoort.

functie	letter
bestrijden van ziekteverwekkers	
laten stollen van het bloed	
vervoeren van zuurstof	

39 Geef bij elke functie de letter en de naam van het bijbehorende orgaan.

omschrijving van de functie	letter	naam van het orgaan
slaat zaadcellen tijdelijk op		
voegt vocht toe aan zaadcellen		

52 Vul het kruisingsschema in.

Bepaal de kans op een nakomeling met de kleur blizzard.

		genotype zaadcellen	
genotype eicellen			

De kans op een nakomeling met de kleur blizzard: .....

**VERGEET NIET DEZE UITWERKBIJLAGE IN TE LEVEREN**