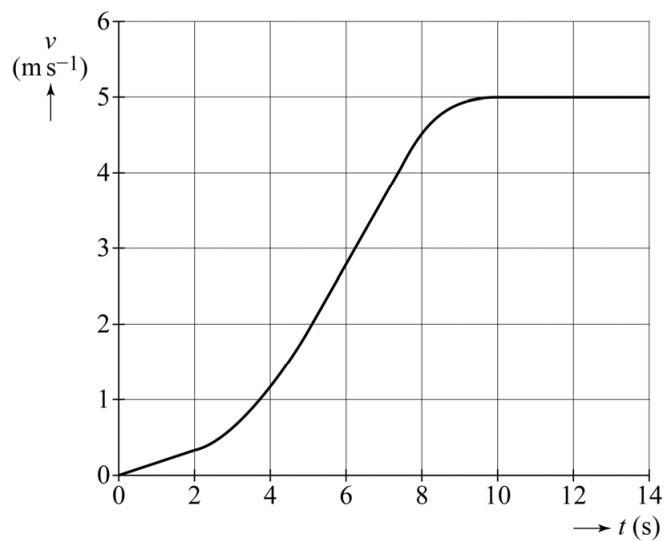


- 9 Geef van elke grootte van L_1 aan of deze in vergelijking met dezelfde grootte van L_2 groter, gelijk of kleiner is.

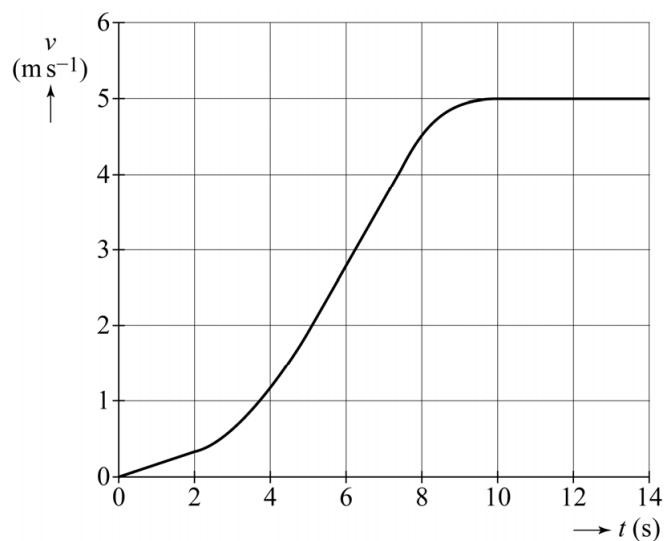
Kies uit: > = <

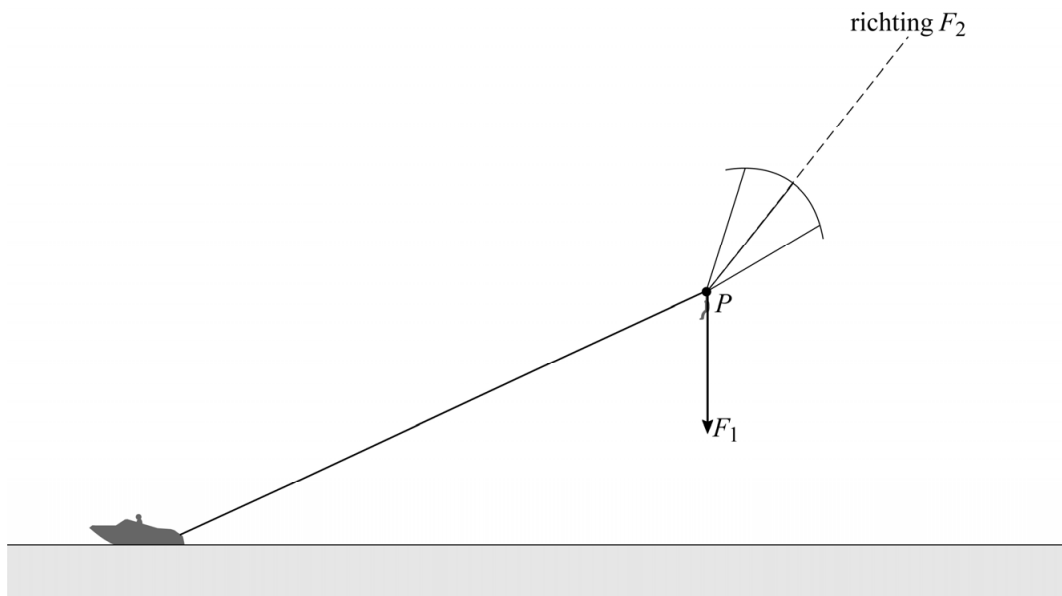
baanstraal	$r(L_1)$	$r(L_2)$
omlooptijd	$T(L_1)$	$T(L_2)$
baansnelheid	$v(L_1)$	$v(L_2)$
middelpuntzoekende kracht	$F_{\text{mpz}}(L_1)$	$F_{\text{mpz}}(L_2)$

15



16





VERGEET NIET DEZE UITWERKBIJLAGE IN TE LEVEREN