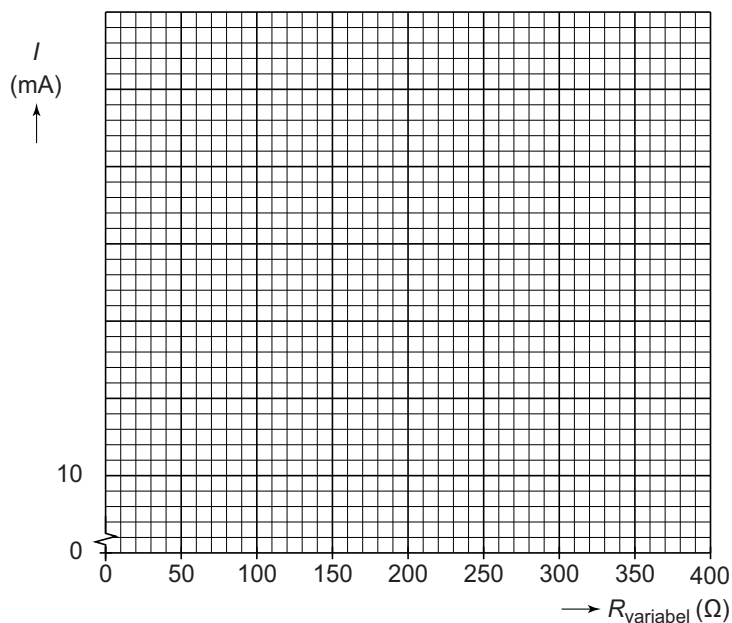


29 Zet in het diagram alle meetpunten uit en teken de grafiek.



Koken op gas

33 Noteer naast de afbeelding de fase van het propaan in elk deel van de fles.



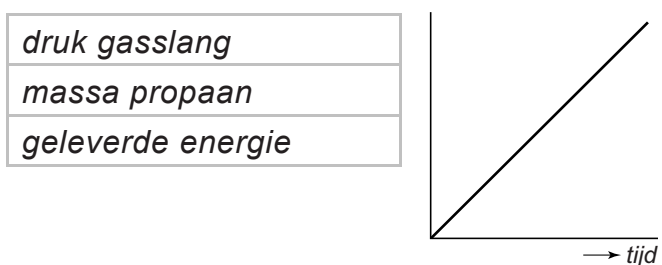
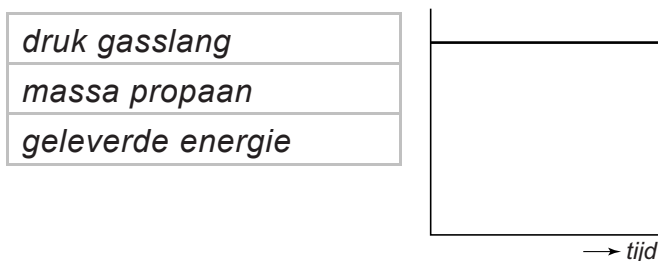
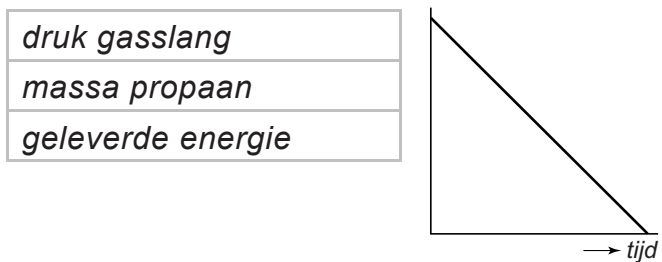
34 Omcirkel in de zin de juiste mogelijkheid.

Als je de gaskraan opendraait

condenseert
rijpt
stolt
sublimeert
verdamppt

het propaan in de fles.

35 Omcirkel bij elk diagram de juiste grootheid bij de verticale as.



Zaklampje

41 Maak het schakelschema compleet met de twee leds.

