

Kwaliteit van verf

- 30 *Maak de eerste zin compleet en omcirkel in de tweede zin de juiste mogelijkheid.*

Bij het verdampen gaat een stof over van de fase

in de fase.





Deze faseovergang is een

chemische reactie

natuurkundig proces

- 33 *Zet in de tabel een kruisje bij de vier veiligheidspictogrammen die op de veiligheidskaart van toepassing zijn.*

			
<input type="checkbox"/>	<input type="checkbox"/>	<input type="checkbox"/>	<input type="checkbox"/>

			
<input type="checkbox"/>	<input type="checkbox"/>	<input type="checkbox"/>	<input type="checkbox"/>