

Bij(de)verwarming

8 *Omcirkel in elke zin de juiste mogelijkheid.*

De spanning over de verwarmingsdraad R_1

is

even groot als	2x zo groot als	2x zo klein als
----------------	-----------------	-----------------

 die over R_2 .

De stroomsterkte door de verwarmingsdraad R_1

is

even groot als	2x zo groot als	2x zo klein als
----------------	-----------------	-----------------

 die door R_2 .

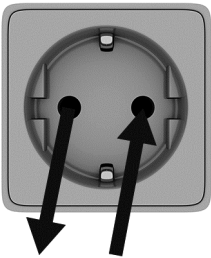
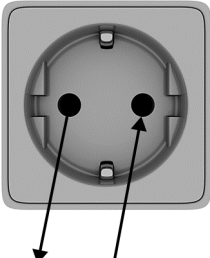
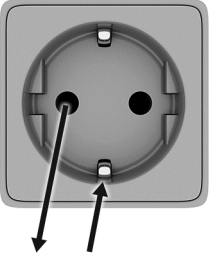
Het vermogen van de verwarmingsdraad R_1

is

even groot als	2x zo groot als	2x zo klein als
----------------	-----------------	-----------------

 dat van R_2 .

10 *Zet achter elke beveiliging één kruisje in de juiste kolom.*

	storing		
beveiliging	 50 A 50 A	 5 A 4,95 A	 10 A 10 A
randaarde			
aardlekschakelaar			
groepszekering			