

## Carnavalsoptocht

---

- 9 *Omcirkel in elke zin de juiste mogelijkheid.*

Gehoorbescherming vermindert het geluidsniveau bij de

<b>bron</b>
<b>ontvanger</b>

Wanneer het geluidsniveau afneemt,

wordt de 

<b>amplitude</b>
<b>trillingstijd</b>

 van het geluid 

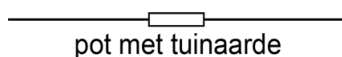
<b>groter</b>
<b>kleiner</b>

 .

## Geleidende grond

---

- 14 *Maak het schema compleet met accu, schakelaar en spoel met kern.*



- 18 *Omcirkel in elke zin de juiste mogelijkheid.*

Uiteinde 2 van de kern is een 

<b>noordpool</b>	<b>zuidpool</b>
------------------	-----------------

 .

Uiteinde 3 van de kern is een 

<b>noordpool</b>	<b>zuidpool</b>
------------------	-----------------

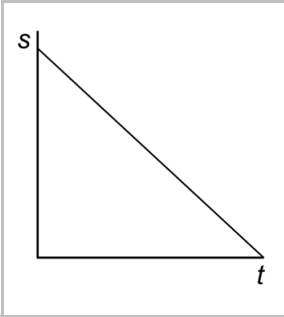
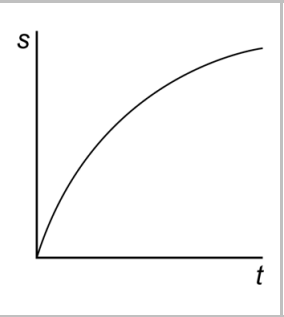
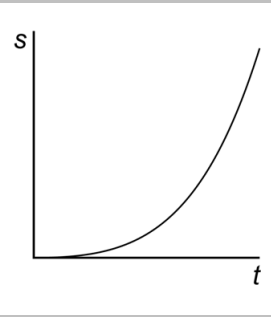
 .

19 Zet in elke rij één kruisje in de juiste kolom.

Jasper wisselt de snoeren om bij:	De kompasnaald	
	draait wel	draait niet
de + en - van de accu		
de koperen plaatjes		
de schakelaar		
de spoel		

### Demonstratieproef

22 Zet in elke rij één kruisje in de kolom die hoort bij de beweging van de kogel tussen de drie posities.

			
van P naar Q			
van Q naar R			