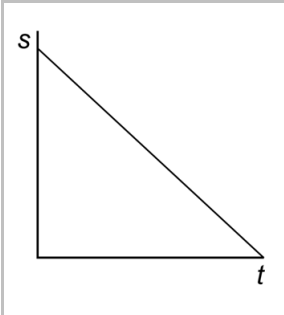
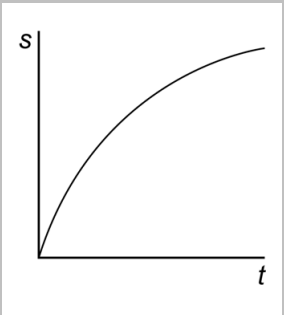
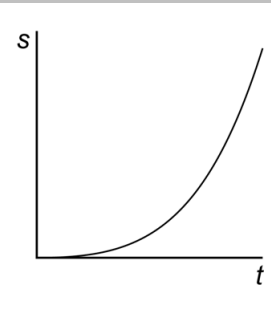


19 Zet in elke rij één kruisje in de juiste kolom.

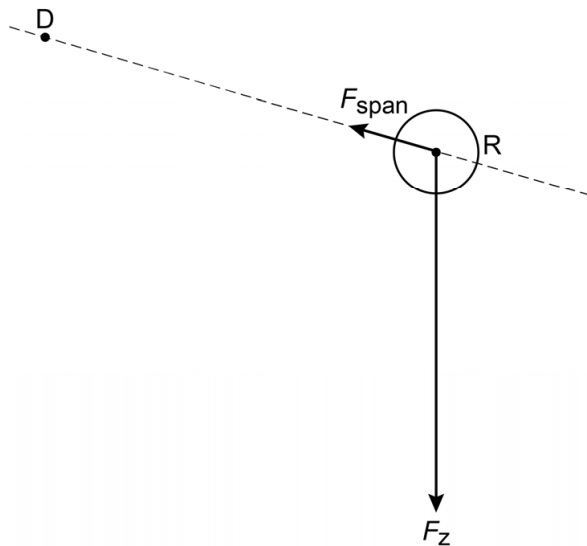
Jasper wisselt de snoeren om bij:	De kompasnaald	
	draait wel	draait niet
de + en - van de accu		
de koperen plaatjes		
de schakelaar		
de spoel		

### Demonstratieproef

22 Zet in elke rij één kruisje in de kolom die hoort bij de beweging van de kogel tussen de drie posities.

			
van P naar Q			
van Q naar R			

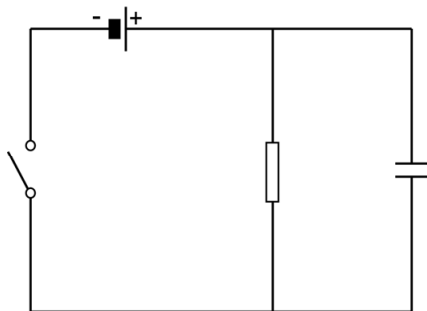
24 *Construeer de nettokracht op de kogel.*



## Condensatorproef

---

28 *Geef in het schakelschema met pijlen aan, hoe de stroom dan van de condensator via de weerstand loopt.*



29 *Maak het schakelschema compleet met de spanningsmeter op de juiste plaats.*

