

Knoopcel-batterijen







35 Noteer het kookpunt van kwik in K en °C.

$T = \dots\dots$ K

$T = \dots\dots$ °C

Geurverspreider

39 Zet in de tabel een kruisje onder de twee juiste veiligheidspictogrammen.

40 Noteer in de eerste zin de juiste waarde en omcirkel in de tweede zin de juiste mogelijkheid.

Een mens kan geluiden horen met een frequentie van maximaal kHz.

Anja kan het geluid van de trillende plaat

niet

wel

horen.