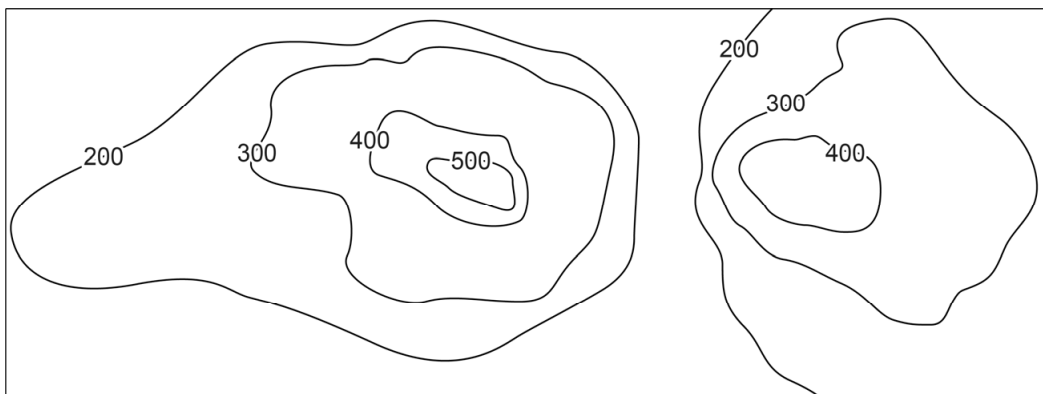


## Hoogtelijnen

Yvonne maakt een bergwandeling. Ze heeft een kaart waarop twee bergen te zien zijn in hoogtelijnen. De hoogtelijnen zijn in meters.

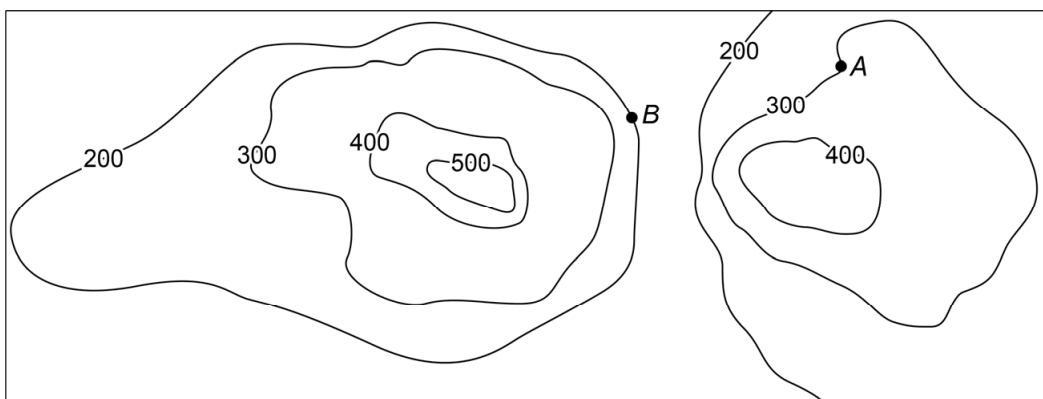


- 2p 10 Kleur hierboven de gebieden die tussen de 300 en 400 meter hoogte liggen.
- 2p 11 Yvonne zegt: "Het hoogste punt op de kaart ligt op 620 meter."  
→ Kan Yvonne gelijk hebben? Leg je antwoord uit.

.....

.....

- 2p 12 Yvonne staat bij punt A en ze wil naar het restaurant bij punt B.



→ Omcirkel in de zin de juiste antwoorden.

Het restaurant (B) ligt 

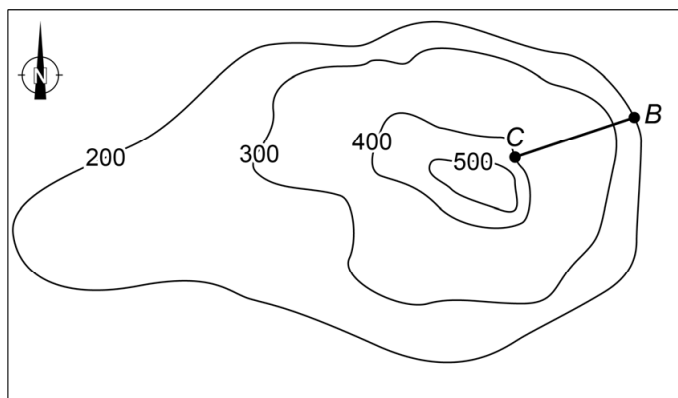
0
100
200
300
400

 meter 

hoger
lager

 dan Yvonne (A).

2p 13 Vanaf het restaurant bij punt *B* loopt Yvonne naar punt *C*.



→ Hoeveel graden is de koershoek van punt *B* naar punt *C*?

..... graden