


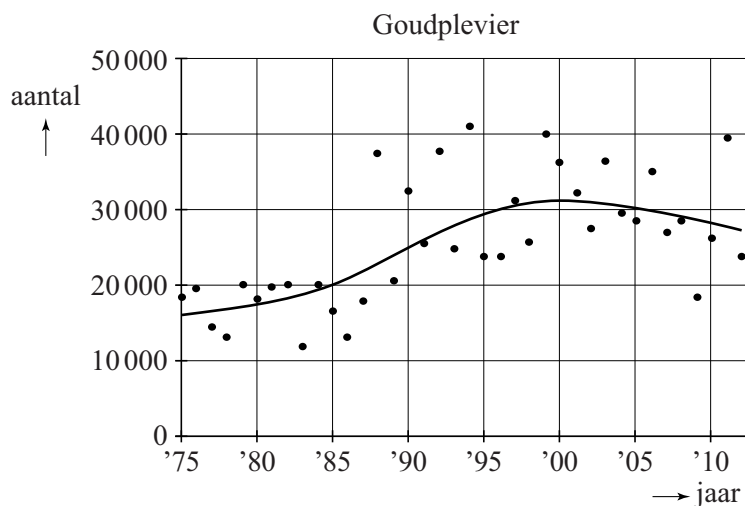
Goudplevieren

Een goudplevier (zie foto) is een vogel die niet in Nederland broedt, maar tijdens zijn trektochten wel in Nederland te vinden is. Er zijn grote verschillen in aantallen goudplevieren tussen de verschillende jaren. In figuur 1 zijn de aantallen goudplevieren in Nederland in de jaren 1975 tot en met 2012 weergegeven als zwarte stippen.

foto



figuur 1



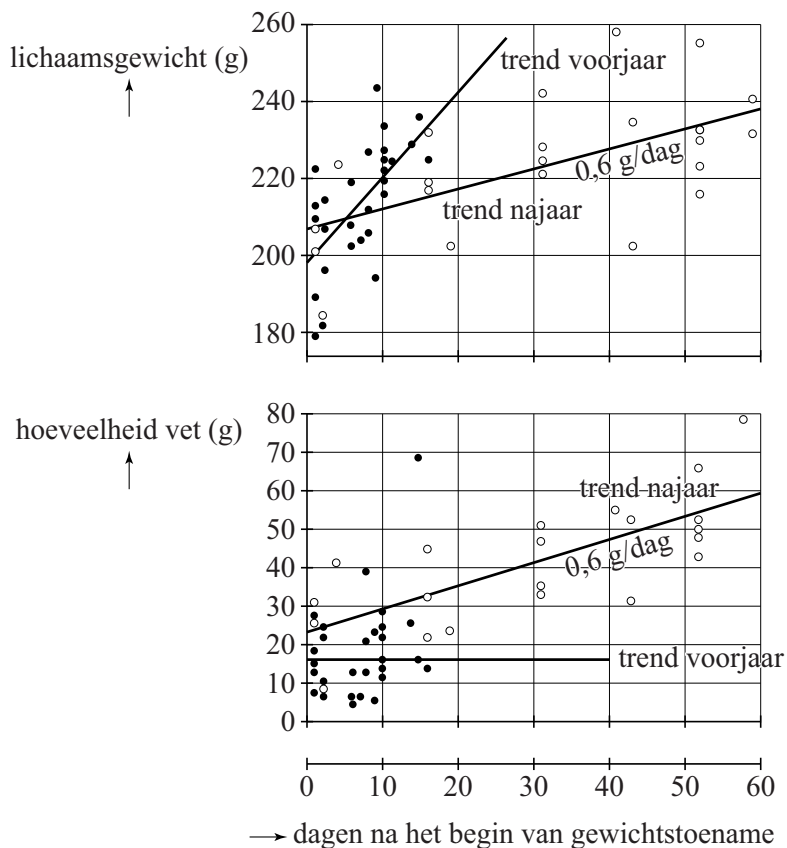
In figuur 1 is ook een kromme getekend die de trend aangeeft. We nemen aan dat vanaf 2003 deze trend een rechte lijn is en dat dit ook na 2012 zo blijft.

- 4p 11 Bereken hoeveel goudplevieren er volgens de trendlijn zijn in 2020. Geef je antwoord in gehele duizendtallen.

Tijdens hun verblijf in Nederland bouwen de goudplevieren een reserve op voor de komende trektochten. Hierdoor nemen ze toe in gewicht.

In figuur 2 zie je het resultaat van een onderzoek naar deze gewichtstoename: van een aantal op verschillende tijdstippen gevangen goudplevieren is het gewicht en/of de hoeveelheid vet bepaald. De open stippen horen bij waarnemingen in het najaar en de dichte stippen bij waarnemingen in het voorjaar. Ook zijn de trendlijnen getekend.

figuur 2



Op grond van specifieke biologische kenmerken kunnen de onderzoekers bepalen wanneer de gewichtstoename van een goudplevier begint. Aan de hand van de trendlijnen in figuur 2 kun je onderzoeken of de volgende stellingen waar zijn.

- I In het voorjaar is de gemiddelde gewichtstoename per dag van een goudplevier ongeveer 2 keer zo groot als in het najaar.
- II De gewichtstoename in het voorjaar bestaat niet uit vet.

4p 12 Onderzoek voor elk van beide stellingen of deze waar is.

Het **vetpercentage** van een vogel is de hoeveelheid lichaamsvet als percentage van het totale gewicht van de vogel. Er geldt dus:

$$\text{vetpercentage} = \frac{\text{hoeveelheid vet (in gram)}}{\text{totale gewicht (in gram)}} \times 100$$

Met behulp van de trendlijnen (in figuur 2) is een formule op te stellen voor P_{voorjaar} , het vetpercentage in het voorjaar. Als je dat doet met de punten (0, 198) en (20, 244) uit de grafiek voor het totale lichaamsgewicht, dan ontstaat de formule $P_{\text{voorjaar}} = \frac{1600}{2,3 \cdot t + 198}$ met t de tijd in dagen na het begin van de gewichtstoename.

- 5p **13** Laat zien, gebruikmakend van de grafieken in figuur 2 en de punten (0, 198) en (20, 244), dat deze formule inderdaad uit de gegevens volgt.
- 3p **14** Beredeneer uitsluitend met behulp van de formule voor P_{voorjaar} , zonder getallen in te vullen of een schets te maken, of het vetpercentage in het voorjaar toeneemt of juist afneemt.

Voor het vetpercentage in het najaar gaan we uit van de volgende formule:

$$P_{\text{najaar}} = \frac{2300 + 60t}{207 + 0,6t}$$

Hierin is P_{najaar} het vetpercentage van de vogel in het najaar en t de tijd in dagen na het begin van de gewichtstoename.

Als je de grafiek van P_{najaar} zou tekenen, zou je zien dat deze stijgt. Het is echter vrij moeilijk te zien of dit een toenemende of afnemende stijging is. Met berekeningen is dit wel te onderzoeken. Je mag er hierbij van uitgaan dat de grafiek of voortdurend toenemend stijgend is of voortdurend afnemend stijgend.

- 4p **15** Onderzoek of de grafiek van P_{najaar} toenemend stijgend of afnemend stijgend is.